

令和4年度

和歌山県高等学校入学者選抜学力検査問題

# 社 会

(10時30分～11時20分)

(注 意)

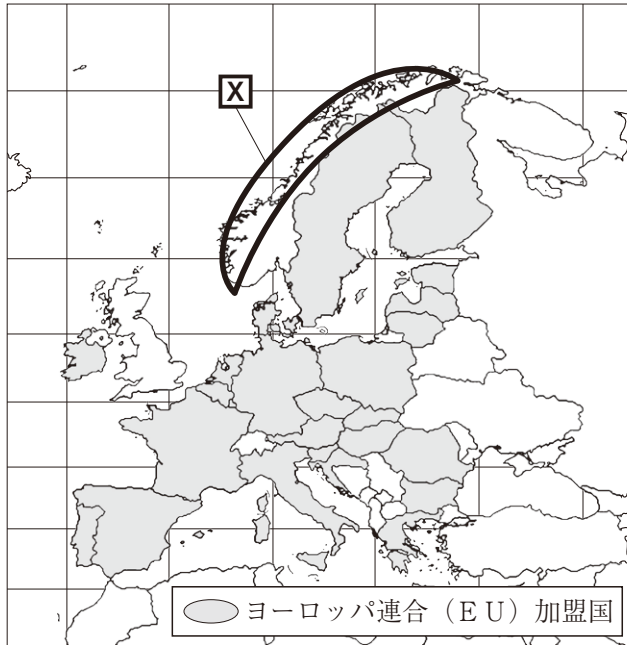
- 1 「始め」の合図があるまで、問題を見てはいけません。
- 2 問題冊子と別に解答用紙が1枚あります。答えは、すべて解答用紙に記入下さい。
- 3 問題冊子と解答用紙の両方の決められた欄に、受検番号を記入下さい。
- 4 印刷が悪くて分からないときや筆記用具を落としたときなどは、黙って手を挙げ下さい。
- 5 時間内に解答が終わっても、その場に着席して下さい。
- 6 「やめ」の合図があったら、すぐに解答するのをやめ、解答用紙を裏向けにして机の上に置き下さい。

受 検 番 号

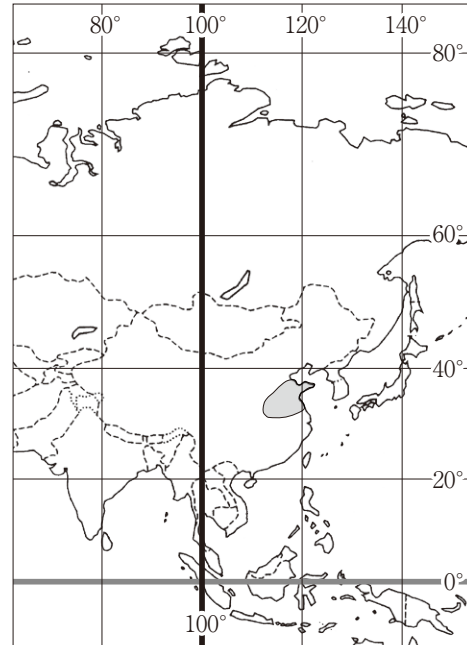
受 検 番 号

- 1 良夫さんのクラスでは、世界の諸地域の中からグループごとに1つの州を選び、その特色についてまとめることにしました。2つのグループが、それぞれ選んだ州の略地図Ⅰ、Ⅱを見て、〔問1〕～〔問6〕に答えなさい。

略地図Ⅰ



略地図Ⅱ



〔問1〕 略地図Ⅰ中の X で示された地域の沿岸部に見られる、氷河によってけずられた谷に海水が深く入りこんだ地形を何とといいますか、書きなさい。

〔問2〕 図1は、略地図Ⅰで示されたヨーロッパ州の国の言語を、大きく3つに分類して表したものです。図1中の Y にあてはまる語を書きなさい。

図1

ゲルマン系言語	… 英語、ドイツ語、ノルウェー語など
Y 系言語	… フランス語、イタリア語、スペイン語など
スラブ系言語	… ロシア語、ポーランド語、ブルガリア語など

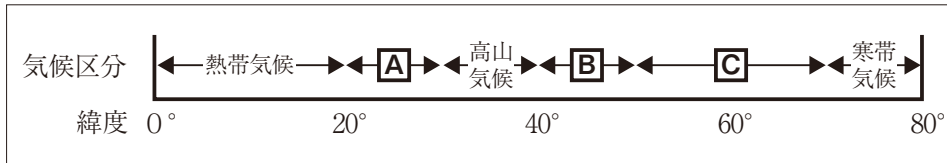
〔問3〕 略地図Ⅰで示されたヨーロッパ連合（EU）加盟国において、EUの成立は人々の生活に大きな変化をもたらしました。多くのEU加盟国で起こった変化の1つを、「パスポート」という語を用いて、簡潔に書きなさい。

〔問4〕 略地図Ⅱ中の ○ で示された地域は、中国が世界第1位の生産量をあげている、ある穀物の主要な生産地域を表しています。この穀物の説明として適切なものを、次のア～エの中から1つ選び、その記号を書きなさい。

- ア アジア州で生産されるほか、ブラジルではバイオ燃料の原料として盛んに生産されている。
- イ アジア州とヨーロッパ州で約8割が生産され、世界各地で人々の主食の原料となっている。
- ウ アジア州や南アメリカ州などの熱帯地域で、輸出作物として大規模に生産されている。
- エ アジア州の降水量が多い平野部を中心として、世界の約9割が生産されている。

〔問5〕 図2は、略地図Ⅱ中で示された東経100度線上での緯度ごとの気候区分を模式的に表したものです。図2中の[A]～[C]にあてはまる気候区分を、下のア～ウの中からそれぞれ1つ選び、その記号を書きなさい。

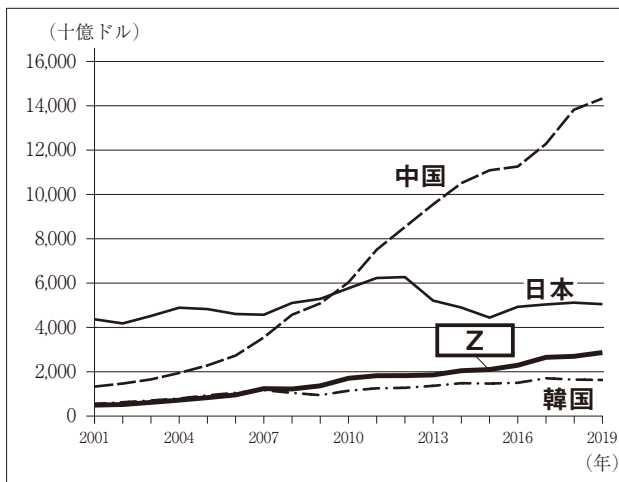
図2



ア 乾燥帯気候    イ 温帯気候    ウ 冷帯気候

〔問6〕 図3は、略地図Ⅱで示されたアジア州の主な国の2001年から2019年におけるGDP（国内総生産）の推移を、表は、アジア州における2019年の自動車生産台数の上位5か国を表したものです。図3中と表中の[Z]にあてはまる国名を書きなさい。

図3




(国際通貨基金資料から作成)


表

国名	自動車生産台数 (千台)
中国	25,751
日本	9,685
[Z]	4,524
韓国	3,951
タイ	2,014

(「世界国勢図会2021/22」から作成)

**2** 明子さんのクラスでは、グループごとに日本の諸地域の1つを取り上げ、その地域に関係する1枚の写真をもとにその特徴をまとめることにしました。次の**I**、**II**のカードは、生徒がまとめたものの一部です。これらを読み、〔問1〕～〔問6〕に答えなさい。

<b>I</b> 北海道地方	 ウポポイ	<p>①北海道は、もともと先住民族であるアイヌの人々が住んでいた土地でした。明治時代になって、明治政府はこの地に、<input type="text"/> という役所を置き、移住者を多く集め、欧米の②農業に学んで農耕地を広げました。それとともにアイヌの人々の土地を奪い、同化政策を進めました。現在、政府は法整備によりアイヌ文化の振興に取り組み、2020年にはアイヌ文化の復興・発展のための拠点としてウポポイ（民族共生象徴空間）を開設しました。</p>
-------------------	---	---

<b>II</b> 中部地方	 北陸の豪雪	<p>中部地方の日本海側にある北陸は、③雪がひじょうに多く降る、世界有数の豪雪地帯です。雪は生活に困難を与えることも多いですが、人々はこの環境を工夫しながら乗り越えてきました。冬季に農家では、農作業が難しくなるため、副業が古くから発達し、④地場産業として現在まで受け継がれているものもあります。また、山岳地帯から豊富に供給される雪解け水は、⑤発電にも利用されています。</p>
-------------------	--	--

〔問1〕 文中の  にあてはまる語を書きなさい。

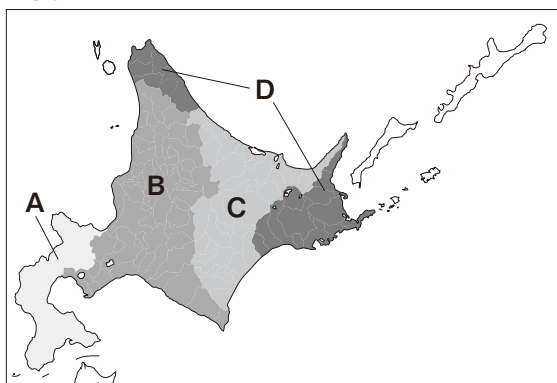
〔問2〕 下線①に関する説明として最も適切なものを、次のア～エの中から1つ選び、その記号を書きなさい。

- ア 広大な平野には、日本で最大の流域面積をもつ河川が流れている。
- イ フォッサマグナとよばれる、南北に帯状に広がるみぞ状の地形がある。
- ウ 中央部の平野には、かつて泥炭地とよばれる排水の悪いやせ地が広がっていた。
- エ 南部には、シラスとよばれる古い火山の噴出物によってできた台地が広く分布している。

〔問3〕 下線②に関し、北海道では、自然条件に応じて地域ごとに特色ある農業が展開されています。

図1は、その特色別に4つの地域区分を表したものです。十勝平野を含む地域を、図1中のA～Dの中から1つ選び、その記号を書きなさい。また、その地域の農業の説明として最も適切なものを、下のア～ウの中から1つ選び、その記号を書きなさい。

図1



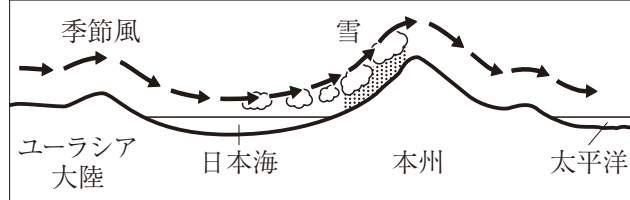
- ア 稲作を中心に野菜・畑作などの農業
- イ 畑作での輪作と酪農を中心とした農業
- ウ 酪農を中心とした農業

〔問4〕 下線㉓に関し，次の説明文は，日本海側の地域で冬に雪が多く降るしくみについて述べたものです。説明文中の  にあてはまる内容を，簡潔に書きなさい。

説明文

資料は，日本海側の地域で冬に雪が多く降るしくみを模式的に表したものです。大陸からふいてくる季節風が，日本海を渡るときに，，本州の山地にぶつかって，日本海側の地域に多くの雪を降らせます。

資料

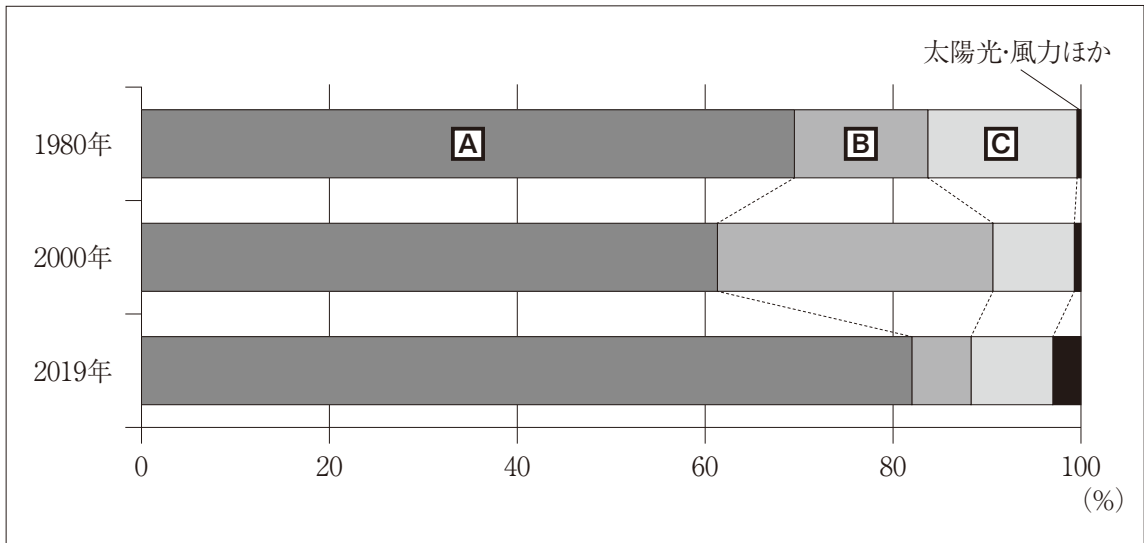


〔問5〕 下線㉔に関し，製造技術が代々受け継がれている産業は伝統産業（伝統工業）といわれます。北陸の伝統産業（伝統工業）にあたるものを，次のア～エの中から1つ選び，その記号を書きなさい。

- ア あいづぬり 会津塗    イ にしじんおり 西陣織    ウ なんぶてつき 南部鉄器    エ わじまぬり 輪島塗

〔問6〕 下線㉕に関し，図2は，日本の発電電力量の発電方法による内訳の推移を表したものです。図2中の **A**～**C** にあてはまる発電方法を，下のア～ウの中からそれぞれ1つ選び，その記号を書きなさい。

図2



(「日本国勢図会2021/22」から作成)

- ア 水力    イ 火力    ウ 原子力

3 次のA～Fのカードは、こうじさんが社会科の調べ学習で、文化遺産についてまとめたもの的一部分です。これらを読み、〔問1〕～〔問9〕に答えなさい。

**A** **㉑ ハンムラビ法典碑**  
ほうてん ひ  
 この石碑に刻まれた法典は、ハンムラビ（ハムラビ）王が、諸民族を支配するために制定しました。「目には目を、歯には歯を」という考え方が有名です。この発見により、**㉒ メソポタミア文明**の繁栄が明らかになりました。

**B** **法隆寺**  
ほうりゅう じ  
 法隆寺は、**㉓ 聖徳太子**  
しょうとく たいし  
 （**㉔ 厩戸皇子**）  
うまやどの おうじ  
 によって建立された、**㉕ 飛鳥時代**  
あすか  
 を代表する寺院です。7世紀後半に火災にあい、再建されましたが、それでも現存する世界最古の木造建築といわれています。

**C** **厳島神社**  
いつくしま  
 厳島神社は、**㉖ 平清盛**  
たいらのきよもり  
 によって**㉗ 平家一門**の守護神として位置づけられ、信仰を集めました。その後、**㉘ 鎌倉時代**  
かまくら  
 に二度の火災によって焼失しましたが、鎌倉幕府の支えもあり、そのつど再建されました。

**D** **鉄砲**  
 15世紀から16世紀にかけて、**㉙ ヨーロッパの国々**が海外に進出し、日本にはその時期に鉄砲が伝えられました。**㉚ 戦国大名**は、鉄砲の威力に注目し、買い求めました。その結果、戦い方が変化し、全国統一の動きが加速しました。

**E** **唐蘭館絵巻**  
とうらんかん えまき  
 この絵巻には、長崎の**㉛ 出島**で取引された交易商品の重さを量るようすがえがかれています。**㉜ オランダ**や日本の商人が、この地で銅や砂糖などを取引していました。


**F** **傘連判状**  
からかされんぱんじょう  
**㉝ 江戸時代**  
えど  
 の農民が起こした**㉞ 一揆**では、誓約のしるしとして、傘連判状が作られることがありました。署名を円形にしたのは、一揆の指導者がだれかを、分からないようにするためだといわれています。

〔問1〕 下線㉑に関し、資料1は、ハンムラビ法典碑の一部です。この石碑に刻まれている、メソポタミア文明で発達した文字を何といいますか、書きなさい。

〔問2〕 下線㉒は、エジプト文明、インダス文明、中国文明とともに四大文明とよばれています。これらの文明に共通する特徴として適切なものを、次のア～エの中から1つ選び、その記号を書きなさい。

- ア 大河の流域で成立した。      イ イスラム教を信仰した。  
 ウ 東アジアで成立した。      エ 太陽暦が主に用いられた。

資料1

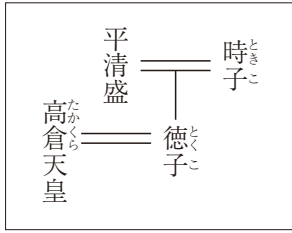


〔問3〕 下線㉓が、対等の立場で国交を結び、東アジアでの立場を有利にするために使者を派遣した国名と、その時派遣された人物の組み合わせとして正しいものを、次のア～エの中から1つ選び、その記号を書きなさい。

記号	ア	イ	ウ	エ
国名	唐	唐	隋	隋
人物	鑑真	小野妹子	鑑真	小野妹子

〔問4〕 下線①は、武士として初めて太政大臣となりました。資料2は平氏の系図の一部を示したものです。資料2からは、平氏が、その後さらに権力を強めるようになった要因の1つが読み取れます。その要因について、簡潔に書きなさい。

資料2



〔問5〕 下線②に関し、資料3は東大寺南大門にある、この時代に制作された仏像です。この仏像の名称を書きなさい。

資料3



〔問6〕 下線③に関し、次のア～ウは、ヨーロッパ人の海外への進出について述べたものです。これらのできごとを年代の古い順に並べ、その記号を書きなさい。

- ア ラクスマンが、漂流民の引き渡しのため、根室に來航した。
- イ ポルトガル人を乗せた中国船が、種子島に流れ着き、日本に鉄砲を伝えた。
- ウ コロンブスが、西インド諸島に到達した。

〔問7〕 下線④が、それぞれの領国を支配するために定めた法を何といいますか、書きなさい。

〔問8〕 下線⑤は、鎖国下の日本で、貿易を許された唯一のヨーロッパの国でした。オランダが日本との貿易を許された理由を、宗教に着目して簡潔に書きなさい。

〔問9〕 下線⑥に関し、この時代の農業や農民の暮らしについて述べたものとして、最も適切なものを、次のア～エの中から1つ選び、その記号を書きなさい。

- ア 6歳以上の男女には口分田が与えられ、その面積に応じて租を負担するようになった。
- イ 米と麦を交互に作る二毛作を行うようになり、草や木の灰を肥料に用いるようになった。
- ウ 農具が改良され、土を深く耕すことができる備中ぐわなどが広く使われるようになった。
- エ 有力な農民を中心に村ごとにまとまり、惣とよばれる自治組織を作るようになった。

4 香織さんと拓也さんは、社会科の自由研究で、授業で興味をもったテーマについて、略年表にまとめました。次の略年表Ⅰ、Ⅱは、その一部です。これらを見て、〔問1〕～〔問5〕に答えなさい。

略年表Ⅰ

【幕末の動乱】

1853年 ㉑ペリーが来航する  
 1858年 日米修好通商条約が締結される  
 安政の大獄がはじまる  
 1860年 江戸城の桜田門外で、大老の井伊直弼が暗殺される  
 X  
 1868年 旧幕府は、戦うことなく新政府軍に江戸城を明けわたす

略年表Ⅱ

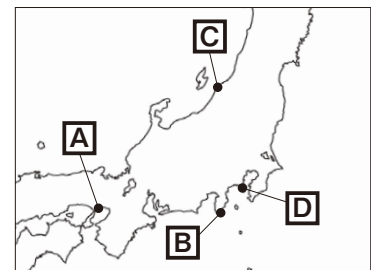
【戦後日本の復興】

1945年 ポツダム宣言を受諾し降伏する  
 1946年 ㉒戦後初の衆議院議員総選挙が行われる  
 日本国憲法が公布される  
 1955年 ㉓日本の経済水準が戦前の水準に回復する  
 Y  
 1964年 東京オリンピック・パラリンピックが開催される

〔問1〕 下線㉑に関し、1853年に来航した場所の地名を、次のア～エの中から1つ選び、その記号を書きなさい。また、その地名の位置を、図中のA～Dの中から1つ選び、その記号を書きなさい。

- ア 新潟      イ 浦賀      ウ 兵庫（神戸）      エ 下田

図



〔問2〕 次のア～ウは、略年表Ⅰ中のXで示した1860年から1868年の時期に起こったできごとについて述べたものです。これらのできごとを起こった順に並べ、その記号を書きなさい。

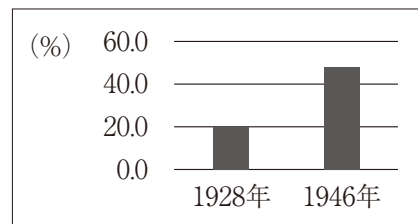
- ア 朝廷が、王政復古の大号令を出した。  
 イ 徳川慶喜が、政権を朝廷に返上した。  
 ウ 旧幕府軍と新政府軍との間で鳥羽・伏見の戦いが起こった。

〔問3〕 下線㉒に関し、次の説明文は、1946年に実施された戦後初の衆議院議員総選挙について述べたものです。説明文中の□にあてはまる文を、選挙資格に着目して簡潔に書きなさい。

説明文

資料は、1928年と1946年に実施された衆議院議員総選挙における、全人口に占める有権者の割合を表しています。この資料から1946年の有権者の割合が、1928年の2倍以上に増えていることがわかります。それは、1946年の選挙では、選挙権が□からです。

資料



(総務省ホームページより作成)

〔問4〕 下線㉓に関し、その主な要因となったできごとを、次のア～エの中から1つ選び、その記号を書きなさい。

- ア 東海道新幹線開通      イ 国際連合加盟      ウ キューバ危機      エ 朝鮮戦争

〔問5〕 略年表Ⅱ中のYで示した1955年から1964年の時期における、日本社会のようすについて述べたものとして、最も適切なものを、次のア～エの中から1つ選び、その記号を書きなさい。

- ア 石油危機をきっかけに、トイレトペーパーの異常な買いだめなどのパニックが起こった。  
 イ 白黒テレビなどの家庭電化製品が普及するとともに、大規模な団地が建てられていった。  
 ウ 株式と土地の価格が異常に上がる、バブル経済とよばれる好景気が発生した。  
 エ 四大公害裁判で住民側が勝訴したことをきっかけに、環境庁が設置された。



- 5 純子さんのクラスでは、社会科の学習のまとめとして、現代社会に見られる課題の中から、テーマを設定し、そのことについて調べました。次の文は、生徒が考えたテーマとテーマ設定の理由の一部です。これらを読み、〔問1〕～〔問5〕に答えなさい。

【テーマ】私たちの意見を政治に反映させるには

【テーマ設定の理由】

直接民主制では、有権者の意見が政治に直接反映されます。しかし、有権者が多くなると、**a**合意をすることが困難なため、多くの国では、**b**選挙によって選ばれた代表者が、議会で政治を行っています。日本も、この間接民主制を採用しており、私たちは**c**国会での話し合いに直接参加することはできません。そこで、私たちの意見を国会での話し合いに反映させるには、どうすればよいか考えることにしました。

【テーマ】情報化が進む社会でいかに生きるか

【テーマ設定の理由】

私たちは現在、大量の**d**情報を簡単に手に入れることができます。情報化が進み、私たちの生活はより豊かで便利なものになりました。しかし、情報システムの障害で社会が混乱したり、**e**プライバシーの権利を侵害する個人情報の流出が起こったりするなど、様々な問題も生まれています。そこで、これらの問題に対応するには、私たちはどうすればよいか考えることにしました。

- 〔問1〕 下線**a**に関し、次の説明文は、私たちが対立を解消し、よりよい合意をするための判断基準となる考え方の1つについて述べたものです。この考え方を、下の**ア**～**エ**の中から1つ選び、その記号を書きなさい。

説明文

全体として、より少ない資源（費用や労力など）が無駄なく使われ、多くの利益を得られる結果になっているか、という考え方。

**ア** 効率      **イ** 多様      **ウ** 協調      **エ** 公正

- 〔問2〕 下線**b**に関し、次の説明文は、日本の選挙制度の1つである小選挙区制の特徴について述べたものです。説明文中的下線で示された語を、簡潔に説明しなさい。

説明文

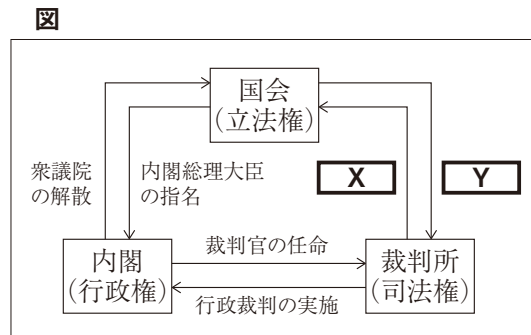
小選挙区制は比例代表制に比べて、選挙区ごとに1名しか当選しないため**死票**が多くなります。その反面、いずれかの政党が単独で議会の過半数を獲得しやすく、政権が安定するといわれています。

- 〔問3〕 下線**c**に関し、**図**は国会、内閣、裁判所の関係を表したものです。これを見て、次の(1)、(2)に答えなさい。

- (1) **図**のように、権力を立法権、行政権、司法権の3つに分け、それぞれを独立した機関が担当することで、権力のゆきすぎを抑制し合う考え方を何といいますか、書きなさい。

- (2) **図**中の **X**、**Y** にあてはまる語句の組み合わせとして正しいものを、次の**ア**～**エ**の中から1つ選び、その記号を書きなさい。

<b>ア</b>	<b>X</b>	－ 違憲審査の実施	<b>Y</b>	－ 最高裁判所長官の指名
<b>イ</b>	<b>X</b>	－ 国民審査の実施	<b>Y</b>	－ 最高裁判所長官の指名
<b>ウ</b>	<b>X</b>	－ 違憲審査の実施	<b>Y</b>	－ 弾劾裁判所の設置
<b>エ</b>	<b>X</b>	－ 国民審査の実施	<b>Y</b>	－ 弾劾裁判所の設置



〔問4〕 下線①に関し、新聞やテレビの報道などの情報をそのまま信じるのではなく、何が真実かを冷静に判断する力を何といいますか、書きなさい。

〔問5〕 下線②に関し、次の文は、プライバシーの権利に関わる、ある裁判の内容について述べたものです。文中の下線で示された権利について述べたものとして、最も適切なものを、下のア～エの中から1つ選び、その記号を書きなさい。

文

ある作家が月刊誌に小説を発表した後に、登場人物のモデルとなった人物から、記述内容がプライバシーの権利を侵害しているとして、裁判を起こされました。この裁判では、モデルとなった人物がもつプライバシーの権利と、作家がもつ自分の作品を発表する権利のどちらの権利が優先されるかが争点となりました。

- ア この権利は、憲法に定められている幸福追求権を根拠としている。
- イ この権利は、自由権の1つである精神の自由（精神活動の自由）に分類される権利である。
- ウ この権利を初めて規定した憲法は、ワイマール憲法である。
- エ この権利に基づいて情報公開の制度が整えられた。

6 次の文は、東京2020オリンピック競技大会の開会式を見た、あやさんの家族の会話の一部です。これを読み、〔問1〕～〔問5〕に答えなさい。

父： ついにオリンピックが開幕したね。入場行進で多くの①国や地域の代表選手団の旗手が、2人だったのを覚えているかい。

あや： そういえば、日本は須崎選手と八村選手がつとめていたね。

父： 国際オリンピック委員会は、今大会から男女1人ずつが旗手をつとめられるように規則を変更したんだ。これは、性別による差別や不平等をなくそうという②ジェンダー平等を進めようとしているからだよ。

母： かつての日本は、女性は家事と育児、男性は仕事という役割の分担があって、それが③女性の社会進出を妨げる一因だったといわれているの。だから、家庭生活を含めてあらゆる分野で男女がともに責任を担い協力していくことが大切だよ。

あや： 社会科の授業で、④政府も、仕事と育児が両立しやすい環境の整備をしていると学んだよ。

父： ⑤企業でも、男性も育児休暇を取りやすくするなど、様々な取り組みを進めているね。

母： 今後も、社会全体で性別によらず、すべての人々が活躍できる環境づくりを進めていくことが必要だと思うわ。

あや： 今回のオリンピックをきっかけに、もっと女性の社会進出が進むといいな。

〔問1〕 下線①に関し、他国による支配や干渉を受けないという原則が、主権国家には認められています。この原則を何といいますか、書きなさい。

〔問2〕 下線②は、2015年に国連で合意された、世界が直面している様々な課題を解決するための「17の目標」に取り入れられています。この「17の目標」を何といいますか、書きなさい。

- 〔問3〕 下線㉓に関し、資料は、女性解放を目指し、平塚らいてう<sup>(ちよう)</sup>らが設立した団体の宣言の一部です。この団体を何といいますか、書きなさい。

資料

元始、女性は実に太陽であった。真正の人であった。今、女性は月である。他によって生き、他の光によってかがやく、病人のような青白い顔の月である。私たちはかくされてしまったわが太陽を今や取り戻さなくてはならない。(部分要約)

- 〔問4〕 下線㉑に関し、次の(1)、(2)に答えなさい。

- (1) 次の説明文は、不景気(不況)における政府の財政政策について述べたものです。説明文中の①、②について、ア、イのうち適切なものをそれぞれ1つ選び、その記号を書きなさい。

説明文

不景気(不況)のとき、政府は① {ア 増税 イ 減税} したり、道路や上下水道などの公共事業(公共投資)を② {ア 増やし イ 減らし} たりする。

- (2) 政府が消費者を保護するために整備した、クーリング・オフとはどのような制度ですか、「契約」という語を用いて、簡潔に説明しなさい。

- 〔問5〕 下線㉔に関し、図は、企業が資金を調達するしくみの1つを表したものです。図のように、企業が株式や社債を発行し、資金を調達するしくみを何といいますか、書きなさい。

図

