

平成 21 年 度

和歌山県高等学校入学者選抜学力検査問題

# 社 会

(10時30分～11時20分)

(注 意)

- 1 「始め」の合図があるまで、問題を見てはいけません。
- 2 問題冊子と別に解答用紙が1枚あります。答えは、すべて解答用紙に記入下さい。
- 3 問題冊子と解答用紙の両方の決められた欄に、受検番号を記入下さい。
- 4 印刷が悪くて分からないときや筆記用具を落としたときなどは、黙って手を挙げ下さい。
- 5 時間内に解答が終わっても、その場に着席して下さい。
- 6 「やめ」の合図があったら、すぐに解答するのをやめ、解答用紙を裏向けにして机の上に置き下さい。

受 検 番 号

受 検 番 号

**1** 次の文は、ブラジルから日本に留学している大学生が、ある中学校でブラジルについて生徒に紹介した内容の一部です。これを読み、〔問1〕～〔問5〕に答えなさい。

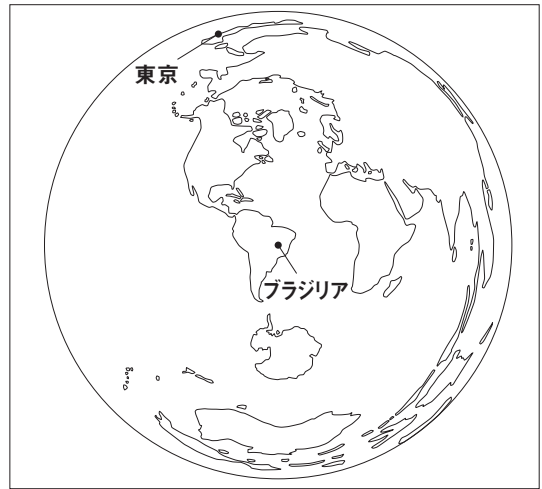
みなさんは、ブラジルと言えば、どんなことを思いうかべますか。例えば、日本から見て、**a**地球のほぼ反対側に位置することや**b**赤道が通っていること、流域面積が世界一広い**c**アマゾン川のこと、スポーツではサッカーのことを思いうかべる人が多いと思います。

でも、ブラジルは、海外で日系人が最も多い国であることを知っている人は、少ないのではないのでしょうか。昨年は、日本人がブラジルへの移住を開始して100年目にあたることから、「日本ブラジル交流年」とされ、さまざまな交流が行われました。今では、サンパウロや**d**リオデジャネイロを中心に150万人以上の日系人が生活し、農業をはじめさまざまな分野で活躍しています。

ブラジルは、近年、広大な国土や豊富な天然資源と労働力をもとに経済が発展し、ロシアやインド、中国とともに**e**経済新興国の一つに数えられています。

〔問1〕 文中の下線**a**に関し、**図1**は、ブラジルの首都ブラジリアからの距離と方位が正しく表された略地図です。ブラジリアと東京の距離が最短となるよう2つの都市を線で結んだとき、この線が通る大陸を、六大陸の名称を使ってすべて書きなさい。

**図1**



〔問2〕 文中の下線**b**に関し、(1)、(2)に答えなさい。

- (1) **図2**に示した**ア～エ**の緯線のうち、赤道にあたるものを1つ選び、その記号を書きなさい。
- (2) 世界の気候は、気温の違いにより、赤道から両極に向かって、大きく、熱帯、温帯、冷帯、寒帯に分けられます。このように、緯度によって気温に差ができる理由を簡潔に書きなさい。

**図2**



〔問3〕 文中の下線**c**に関し、アマゾン川流域で大きな課題となっている環境問題として最も適切なものを、次の**ア～エ**の中から1つ選び、その記号を書きなさい。

**ア** 砂漠化      **イ** オゾン層の破壊      **ウ** 酸性雨      **エ** 熱帯林の減少

〔問4〕 文中の下線**d**に関し、1992年に、この都市で世界の環境保全と経済の発展について話し合われた国際会議を何といいますか、書きなさい。また、この会議で採択された宣言を受けて、1993年にわが国で制定された法律を何といいますか、書きなさい。

〔問5〕 文中の下線**e**に関し、次の**表**は、ブラジルの輸出額と輸入額の推移を表しています。この表から、輸出と輸入の関係について読みとれることを、簡潔に書きなさい。

**表**

(単位 百万ドル)

	2000年	2001年	2002年	2003年	2004年	2005年	2006年
輸出額	55086	58223	60439	73203	96678	118529	137807
輸入額	58631	58351	49723	50881	66433	77628	95852

(「世界国勢図会」2008/09年版から作成)

2 和歌山県は、昨年3月、和歌山の元気の創造を目指して、これから取り組む基本的方向を『和歌山県長期総合計画』としてまとめました。次の文は、県の職員が、ある中学校で「和歌山県の将来像」をテーマに話したときの会話の一部です。これを読み、〔問1〕～〔問5〕に答えなさい。

資料

職員： 今日、和歌山県の将来像について、皆さんと一緒に考えようと思います。県では、長期総合計画の中で、資料にあるような6つの分野の将来像をもとに、和歌山県を発展させていくための具体的な取り組みの方向を考えました。この資料を見て、どんなことを感じますか。

純一： 「国際競争力」や「癒しと感動」といった言葉が印象に残りました。

知子： それぞれの分野で、何を大事にしようとしているかわかるような気がします。

職員： それはうれしいな。県民の皆さんが、和歌山を深く愛し、元気にいきいきとくらしていくためにどうすればよいか、いろいろな人が知恵を出しあって考えたんです。この将来像を実現するためには、和歌山県がもつ優れた特色を積極的に活かしていかなければなりません。その特色にはどんなものがあると思いますか。

純一： 私はすばらしい自然と歴史や文化だと思います。a 紀伊半島は、深い山々と黒潮が流れる豊かな海に恵まれ、世界遺産もあって県外から多くの観光客が訪れています。

知子： それに、醤油やかつお節などの発祥の地として有名です。また、江戸時代には、新しい漁業技術をもっていた紀州の漁民が、現在の千葉県沖まで出漁し、b いわし漁を行っていたと教えてもらったことがあります。


純一： 農業でも、温暖な気候を活かしたc 農産物の生産が盛んに行われています。日本有数の生産量を誇る作物がいくつもあることはよく知られています。

職員： そうですね。私たちは、こうした優れた特色を大切に活かしながら、d これからの時代に対応した産業や文化を育てていく必要があります。それに、e 豊かな自然を守るためには、環境の保全やエネルギー問題への対応も重要だと思っています。

それでは、長期総合計画に関する資料を使いながら、これから具体的に考えていきましょう。

**『和歌山県長期総合計画』**  
～未来に羽ばたく愛着ある郷土 元気な和歌山～

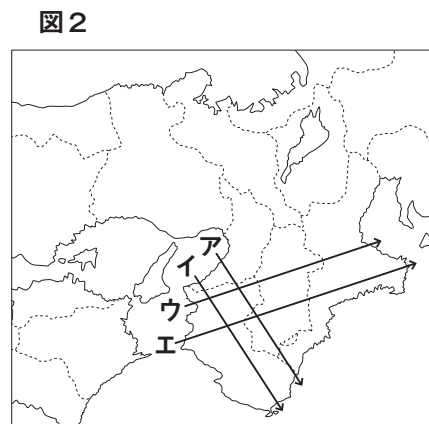
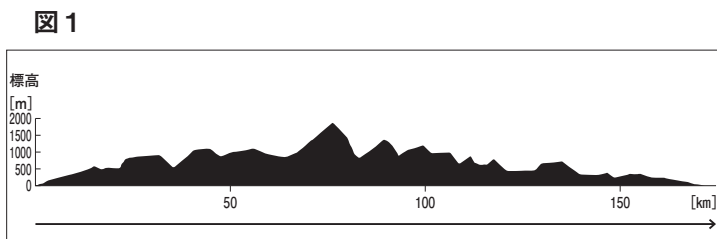
和歌山県  
長期総合計画



- 1 未来を拓くひたむきな人間力を育む和歌山
- 2 生涯現役で誰もが活躍できる和歌山
- 3 国際競争力のあるたくましい産業を育む和歌山
- 4 癒しと感動を与える誇れる郷土和歌山
- 5 県民の命と暮らしを守る安全安心和歌山
- 6 にぎわいと交流を支える公共インフラを整備する和歌山

〔問1〕 文中の下線aに関し、(1)、(2)に答えなさい。

(1) 図1は、図2に示したア～エのいずれかの線のところで切断した地形の断面を、模式的に示したものです。図1はどの線のところの断面ですか。最も適切なものをア～エの中から1つ選び、その記号を書きなさい。



(2) 紀伊半島には、山間部を中心に人口の減少と経済活動の衰退などにより、社会生活を維持することが難しくなっている地域が多くあります。このような地域を何といいますか、書きなさい。

〔問2〕 文中の下線⑥に関し、当時、いわし漁が盛んになった理由を、農業に着目して簡潔に書きなさい。

〔問3〕 文中の下線③に関し、(1)、(2)に答えなさい。

(1) 次の表は、うめ、かき、みかん、もも、それぞれの都道府県別収穫量の割合について、上位5県を示したものです。表中の①～④にあてはまる品目の組み合わせとして正しいものを、下のア～エの中から1つ選び、その記号を書きなさい。

表

①		②		③		④	
山梨県	36.0%	和歌山県	21.4%	和歌山県	17.4%	和歌山県	57.7%
福島県	18.5	奈良県	11.5	愛媛県	15.8	群馬県	6.4
長野県	12.1	福岡県	8.3	静岡県	13.7	長野県	2.2
和歌山県	8.1	岐阜県	6.0	熊本県	9.1	福井県	1.9
山形県	6.2	愛知県	5.2	長崎県	7.1	奈良県	1.8
その他	19.1	その他	47.6	その他	36.9	山梨県	1.8
計	100.0	計	100.0	計	100.0	計	100.0

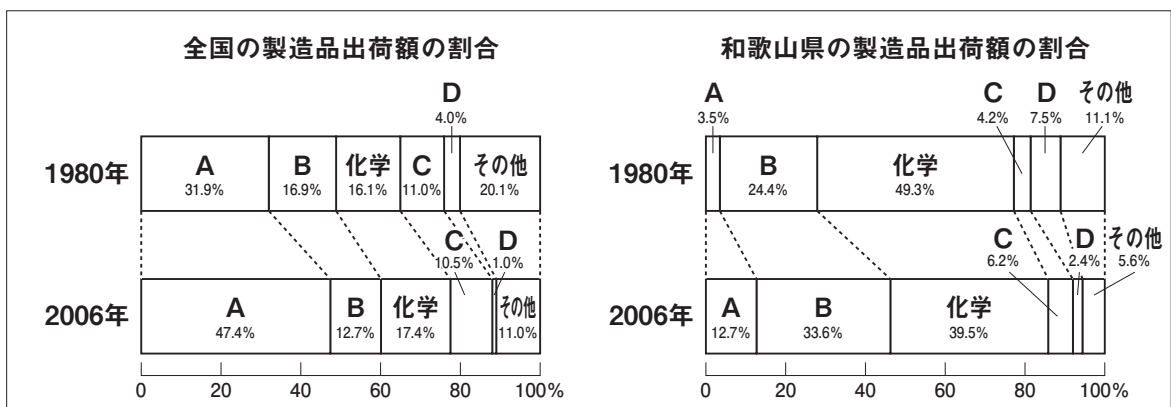
(「データでみる県勢」2009年版から作成)

- ア ① うめ      ② みかん      ③ もも      ④ かき  
 イ ① もも      ② かき      ③ みかん      ④ うめ  
 ウ ① もも      ② みかん      ③ かき      ④ うめ  
 エ ① かき      ② うめ      ③ みかん      ④ もも

(2) 和歌山県では、生産者の申請を受けて、「いつ」「どこで」「だれが」「どのように」生産したかわかる農産物であることを認定し、マークで示す方法を取り入れています。このような取り組みは、生産者と消費者にとって、それぞれどのような利点がありますか、簡潔に書きなさい。

〔問4〕 文中の下線①に関し、図3は、全国と和歌山県における1980年と2006年の製造品出荷額の割合を示しています。図中のA～Dには、それぞれ下のア～エのいずれかの品目があてはまります。AとBにあてはまる品目を、下のア～エの中からそれぞれ1つずつ選び、その記号を書きなさい。

図3



(「工業統計調査」から作成)

- ア 食料品      イ 機械      ウ 金属      エ 繊維

〔問5〕 文中の下線⑤に関し、和歌山県の串本沿岸海域や北海道の釧路湿原は、水鳥などが生息する国際的に貴重な湿地を守るために結ばれた条約に登録され、環境保全の取り組みが進められています。この条約を何といいますか、書きなさい。

**3** 次の文は、夏休みの課題学習で、優子さんが「外国人から見た日本文化」というテーマでまとめたものの一部です。これを読み、〔問1〕～〔問10〕に答えなさい。

イタリア人のマルコポーロは、『東方見聞録』の中で「ジパングの宮殿の屋根はすべて黄金でふかれており、その価格は評価できない。宮殿内の道路や部屋の床は、純金の板をしきつめている。また、元の□はこの島がきわめて富裕なのを聞いて、占領する計画をたてた」ことなどを紹介しています。この紹介は少し大げさかもしれませんが、このころの日本では、仏像や建築に多くの金が使われていました。特に、**a**東北地方の豪族であった藤原氏をまつる中尊寺金色堂は、金ぱくなどで豪華に装飾されており、ここを訪れた人たちの話などから、「日本は黄金の国」と表現したのかもしれませんが。

**b**織田信長と親交を重ねた**c**イエズス会の宣教師であるフロイスは、**d**東大寺は華麗な寺院で、今まで見た中で最も美しく頑丈で、また、見た目に快い建物の一つであったと紹介しています。驚くべき高ささと太さをもつ柱で支えられた壮大な建築に、私たちと同じように心を動かされたのでしょうか。また、**e**茶の湯についても「茶は飲みなれた人には味が良いばかりではなく、健康増進にも役に立ち、そのふるまいに用いられるすべての品は、日本の宝物であり、ヨーロッパの貴金属や宝石類に値する」と述べています。

さらに、医師で博物学者でもある**f**シーボルトは、日本の「アジサイ」の花を「ヒドランゲア・オタクサ」という学名でヨーロッパに紹介しました。この名は、彼の日本人の妻の呼び名である「オタキサン」にちなんでいるともいわれています。彼は、**g**日本地図を外国に持ち出そうとしたことから日本を追放されましたが、**h**日本の開国の後に再び来日して、日本とのかかわりをもち続けました。

近代には、物理学部門でノーベル賞を受賞したアインシュタインが、**i**デモクラシーの風潮が高まる日本を訪れ、「西洋よりも優れた、日本人がもつ精神の純粋さや謙虚さなどの偉大な価値観を、いつまでももち続けることを忘れないでほしい」という内容のメッセージを残しました。

これらの外国人たちは、私たちに日本文化の特色や価値をあらためて気づかせてくれた恩人といえるのかもしれませんが。

〔問1〕 文中の□には、国号を元と定めて中国全土を支配した人物があてはまります。この人物はだれですか、書きなさい。

〔問2〕 文中の下線**a**に関し、この地方で起こった蝦夷の激しい抵抗をおさえるため、8世紀後半に朝廷が征夷大將軍として任じた人物はだれですか、次の**A**～**E**の中から1つ選び、その記号を書きなさい。

**A** 坂上田村麻呂      **I** 源義家      **U** 平将門      **E** 藤原純友

〔問3〕 文中の下線**b**に関し、**図1**

**1**は織田と徳川の連合軍と武田氏との戦いをえがいた長篠合戦図屏風の一部です。これを見て、織田信長が他の戦国大名にさきがけて取り入れた戦い方について、簡潔に説明しなさい。

図1



〔問4〕 文中の下線**c**は、このころアジアやアメリカ大陸などで積極的に布教活動を行いました。その理由を、当時のヨーロッパの宗教上のできごとに着目し、簡潔に書きなさい。

〔問5〕 文中の下線**d**に関し、(1)、(2)に答えなさい。

(1) 東大寺を建てた天皇はだれですか、書きなさい。

(2) 東大寺が建てられた時代の仏教にかかわるできごととして適切に述べているものを、次の**A**～**E**の中から1つ選び、その記号を書きなさい。

**A** 浄土宗を開いた法然が、念仏を唱えれば救われると説いた。

**I** 信仰で結びついた武士や農民たちが、一向一揆を起こした。

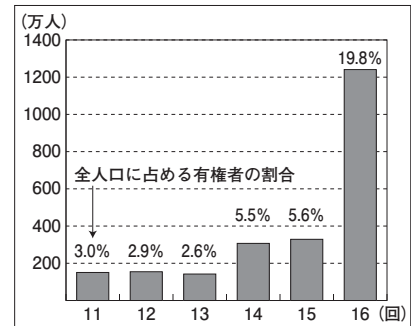
**U** 唐で仏教を学んだ空海が、真言宗を日本に広めた。

**E** 遣唐使とともに来日した鑑真が、仏教の教えを広めた。

- 〔問6〕 文中の下線⑤を大成させた堺の商人はだれですか、書きなさい。
- 〔問7〕 文中の下線⑥は、19世紀はじめに、医師として長崎の出島に赴任してきました。このころ、出島での貿易を幕府に許されていたヨーロッパの国はどこですか、その国名を書きなさい。
- 〔問8〕 文中の下線⑦に関し、幕府の命令で全国の海岸線を測量し、現在と変わらないほど正確な日本地図をつくった人物はだれですか、書きなさい。
- 〔問9〕 文中の下線⑧に関し、(1)、(2)に答えなさい。
- (1) 次のア～エのできごとを、年代の古い順に並べるとどのようになりますか、その記号を順に書きなさい。
- ア 下関砲台が4か国の連合艦隊に占領された。
- イ 日米修好通商条約が結ばれた。
- ウ 大老井伊直弼が江戸城の桜田門外で暗殺された。
- エ ペリーが浦賀に来航し、開国を求めた。
- (2) 欧米との間で結ばれた通商条約は、日本にとって不利な内容が含まれていました。1886年に起こったノルマントン号事件をきっかけに、国民が強く改正を求めるようになったのは、条約のどのような内容についてですか、簡潔に書きなさい。

- 〔問10〕 文中の下線⑨に関し、図2は、第11回(1912年)から第16回(1928年)までの衆議院議員選挙の有権者数を表したものです。第16回選挙の際に、有権者数が大きく増加した理由を、次のア～エの中から1つ選び、その記号を書きなさい。

図2



(「日本統計年鑑」などから作成)

- ア 選挙資格の直接国税納入額による制限が、3円に引き下げられたから。
- イ 選挙資格の直接国税納入額による制限が、10円に引き下げられたから。
- ウ 25歳以上のすべての男子に選挙権が認められたから。
- エ 20歳以上のすべての男女に選挙権が認められたから。

- 4 春夫さんたちは、社会科の授業で「私たちの暮らしと政治」というテーマでそれぞれ意見発表を行いました。次の文は、その発表原稿の一部です。これを読み、〔問1〕～〔問7〕に答えなさい。

国会に期待すること <春夫>

国会には、衆議院と参議院の二つの議院があり、**①**国民が選んだ代表者によって、私たちの暮らしに関係する重要な問題が話し合われています。現在の国会は、参議院における野党の議席数が、より多くなっていて、**②**両議院でそれぞれ異なった議決が行われたり、審議に時間がかかったりすることもあります。

政党によって考え方や政策に違いはあると思いますが、私は、何よりも国民の暮らしをよくすることを考えて、十分に論議をつくしてほしいと思います。

地方自治をめぐるあらたな動き <良子>

私たちが住む地域の政治は、**③**市町村や都道府県などの地方公共団体によって行われています。現在、地方公共団体が独自性をより一層発揮できるように地方分権が進められています。その中で、広域な地方公共団体をつくろうという動きがあり、**④**市町村の合併が進んでいます。また、都道府県にかわる「道州」を設置する新しい制度も議論されています。

私は広域な地方公共団体が、私たちの暮らしにどのような影響を及ぼすのかを詳しく調べたいと思います。

現在192か国が加盟している<sup>e</sup>国際連合は、世界の平和と安全を維持することなどを目的としてさまざまな活動を行っています。日本も、国際連合の活動に参加したり、政府開発援助を行ったりするなど国際社会に貢献しています。しかし、現在も飢えや貧困に苦しむ人たちが多く、地域紛争やテロも絶えません。また、<sup>f</sup>核兵器の脅威もあります。

私は、このような問題を解決するために、日本が国際社会でどのような役割を果たしていくべきか考えていきたいです。

- 〔問1〕 文中の□には、内閣を組織する政党をあらわす名称があてはまります。野党に対して用いられるこの名称を何といいますか、書きなさい。
- 〔問2〕 文中の下線<sup>a</sup>に関し、代表者からなる議会を中心に政治を行う制度を何といいますか、書きなさい。
- 〔問3〕 文中の下線<sup>b</sup>に関し、法律案の議決については、日本国憲法第59条②で次のように定められています。条文の□1～□3にあてはまる語句の組み合わせとして正しいものを、下の<sup>A</sup>～<sup>E</sup>の中から1つ選び、その記号を書きなさい。

第59条② □1 で可決し、□2 でこれと異なった議決をした法律案は、□1 で出席議員の□3 で再び可決したときは、法律となる。

- |              |          |          |                |
|--------------|----------|----------|----------------|
| <sup>A</sup> | □1 - 衆議院 | □2 - 参議院 | □3 - 過半数       |
| <sup>I</sup> | □1 - 衆議院 | □2 - 参議院 | □3 - 3分の2以上の多数 |
| <sup>U</sup> | □1 - 参議院 | □2 - 衆議院 | □3 - 過半数       |
| <sup>E</sup> | □1 - 参議院 | □2 - 衆議院 | □3 - 3分の2以上の多数 |

- 〔問4〕 文中の下線<sup>c</sup>には、地方議会の議決により、法律の範囲内で、その地方公共団体にだけ適用されるきまりを定めることが認められています。このきまりを何といいますか、書きなさい。
- 〔問5〕 文中の下線<sup>d</sup>に関し、市町村合併が進められるのは、一般に市町村の財政や行政の面でどのような効果が期待されるからですか、簡潔に書きなさい。
- 〔問6〕 文中の下線<sup>e</sup>に関し、次の資料は、国際連合の総会で採択され、昨年で60周年を迎えた宣言の一部です。この宣言を何といいますか、書きなさい。

**資料**

第1条 すべての人間は、生まれながらにして自由であり、かつ、尊厳と権利とについて平等である。人間は、理性と良心とを授けられており、互いに同胞の精神をもって行動しなければならない。

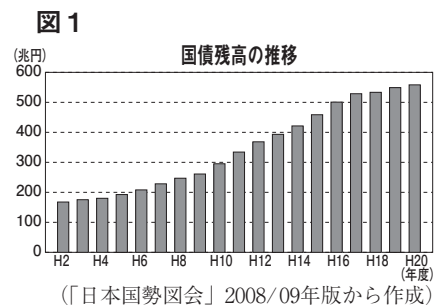
第6条 すべての人は、いかなる場所においても、法の下<sup>もと</sup>において、人として認められる権利を有する。

- 〔問7〕 文中の下線<sup>f</sup>に関し、唯一の被爆国である日本が、平和主義と核軍縮の立場から宣言している「非核三原則」とはどのような原則ですか、簡潔に書きなさい。

**5** あつこさんのクラスでは、社会科の授業で経済について学習したあと、「消費税の税率を引き上げるべきである」をテーマに、賛成と反対に分かれてディベートを行いました。次の文は、その時の賛成と反対のそれぞれの意見の一部です。これを読み、〔問1〕～〔問4〕に答えなさい。

**A 賛成派の立論**

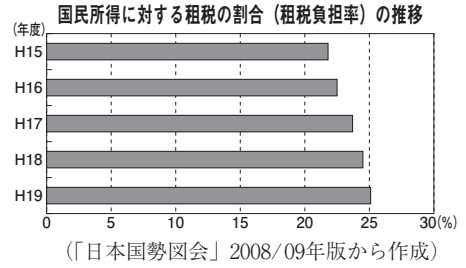
私たちは、<sup>a</sup>消費税の税率を引き上げるべきだと考えます。国の財政の状況を見ると、社会保障関係費が増大し、歳出削減の努力も追いつかないのが実情です。図1に示すように、平成20年度では、国の借金である国債の残高は550兆円を超え、国民一人あたり約430万円の借金をしていることとなります。このままでは、さらに借金が増え、社会保障の水準を引き下げなくてはなりません。こうしたことを避けるためには、財源を安定的に確保し、すべての国民に公平に課税できる消費税の税率を引き上げる必要があると考えます。



**B 反対派の立論**

私たちは、消費税の税率を引き上げるべきではないと考えます。日本経済の状況を見ると、食料品等の価格が上がるなど、物価の上昇に国民は苦しんでいます。また、**図2**に示すように、国民所得に対する租税の割合は年々増加し、平成19年度には25.1%になっています。したがって、このうえ消費税の税率を引き上げると、生活がますます苦しくなると考えます。このような理由から、消費税の税率を引き上げるべきではありません。経済成長を進めて、**歳入**を増やすとともに、歳出の削減に努めていくことがよいと考えます。

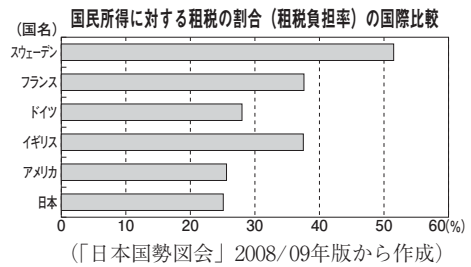
**図2**



**C 「反対派の立論」に対する賛成派の反論**

反対派の方は、消費税の税率を引き上げずに経済成長を進めながら、歳出の削減に努めるとよいと言いますが、これ以上歳出を削減すると、社会保障関係費も切り詰めなくてはなりません。少子高齢化が急速に進むことを考えると、**社会保障制度**が成り立たなくなるおそれがあります。また、**図3**に示すように、わが国は国民所得に対する租税の割合が諸外国に比べて低いといえます。このような理由から、消費税の税率を引き上げる必要があると考えます。


**図3**



〔問1〕 文中の下線**ア**は、間接税に分類されます。間接税とはどのような税ですか、直接税との違いに着目し、簡潔に説明しなさい。

〔問2〕 文中の下線**イ**に関し、**図4**は、わが国の平成19年度の歳入の内訳を示しています。図中の**A**と**B**にあてはまるものを、次の**ア～エ**の中からそれぞれ1つずつ選び、その記号を書きなさい。

**図4**



- ア 酒税      イ 法人税      ウ 相続税      エ 公債金

(財務省「平成19年度 決算の概要」から作成)

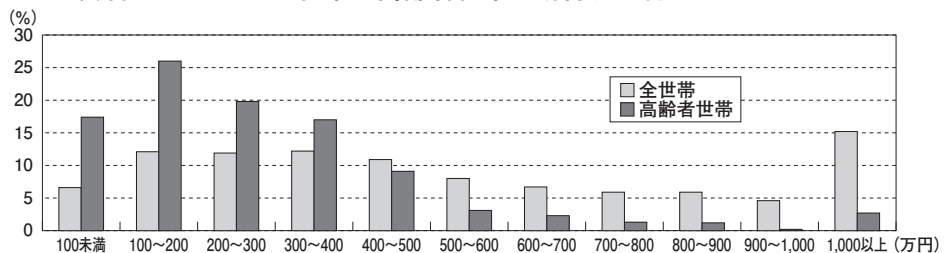
〔問3〕 文中の下線**イ**に関し、(1)、(2)に答えなさい。

- わが国の社会保障制度は、日本国憲法第25条①の「すべて国民は、健康で文化的な最低限度の生活を営む権利を有する。」という規定に基づいて整備されています。この条文に定められた権利を何と申しますか、書きなさい。
- わが国の社会保障制度のうち、病気や失業、老齢などに備えて、加入者などがかけ金を積み立て、必要なときに給付を受ける制度を、次の**ア～エ**の中から1つ選び、その記号を書きなさい。

- ア 公的扶助      イ 公衆衛生      ウ 社会保険      エ 社会福祉

〔問4〕 「**A 賛成派の立論**」に対する反対意見を、次の**資料**をもとに簡潔に書きなさい。

**資料**      **全世帯と高齢者世帯の所得別割合**



(「平成20年版高齢社会白書」から作成)