

平成 22 年 度

和歌山県高等学校入学者選抜学力検査問題

社 会

(10時30分～11時20分)

(注 意)

- 1 「始め」の合図があるまで、問題を見てはいけません。
- 2 問題冊子と別に解答用紙が1枚あります。答えは、すべて解答用紙に記入下さい。
- 3 問題冊子と解答用紙の両方の決められた欄に、受検番号を記入下さい。
- 4 印刷が悪くて分からないときや筆記用具を落としたときなどは、黙って手を挙げ下さい。
- 5 時間内に解答が終わっても、その場に着席して下さい。
- 6 「やめ」の合図があったら、すぐに解答するのをやめ、解答用紙を裏向けにして机の上に置き下さい。

受 検 番 号

| |
|---------|
| 受 検 番 号 |
| |

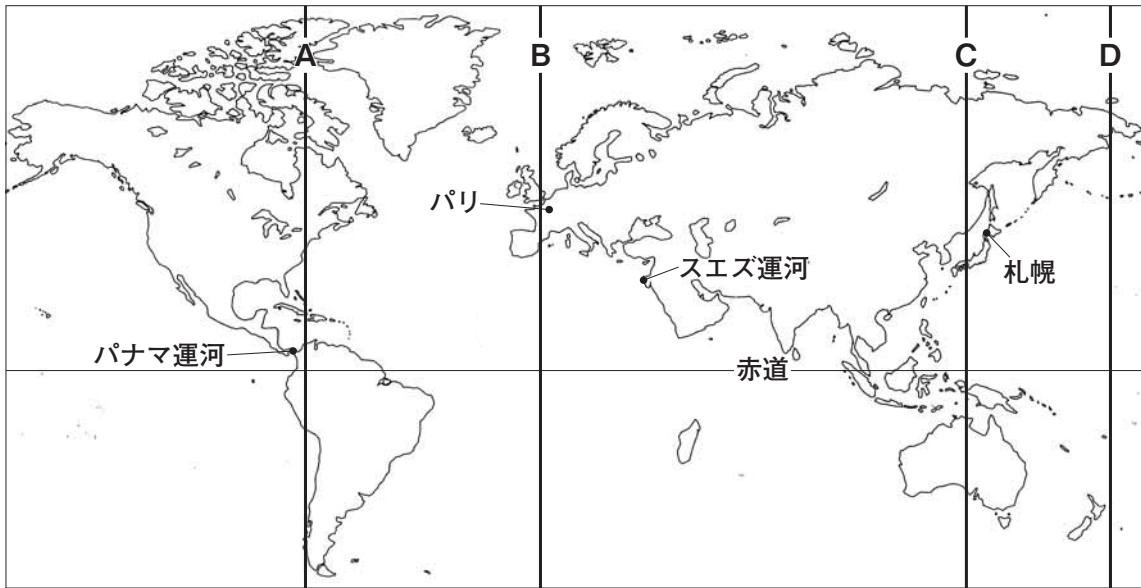
1 次の文を読み、下の略地図を見て、〔問1〕～〔問7〕に答えなさい。なお、略地図には、アフリカ大陸を表していない。

地球は水の惑星といわれ、海と陸地の面積の比は約 です。そのため、人々は古くから海を交通路として利用してきました。はじめのころの、風や海流を利用した航海では時間がかかり、自分の船の正確な位置もよくわかりませんでした。

その後、詳しい地図がつくられたり、羅針盤が発明されたりすることで船の位置がより正確にわかるようになりました。さらに、**a** 本初子午線が定められ、緯度や**b** 経度を利用することで、より安全な航海が可能となりました。

また、**c** ヨーロッパとアジアの間の航路は、**d** アフリカ大陸や南アメリカ大陸の南端をまわっていたため、非常に時間がかかっていました。そこで人々は、三大洋の間を短時間で行き来できるようにするために、スエズ運河やパナマ運河を開通させました。

これらにより海上輸送が発達し、**e** 世界の国々の間での貿易が一層活発になりました。



〔問1〕 文中の にあてはまる比として最も適切なものを、次のア～エの中から1つ選び、その記号を書きなさい。

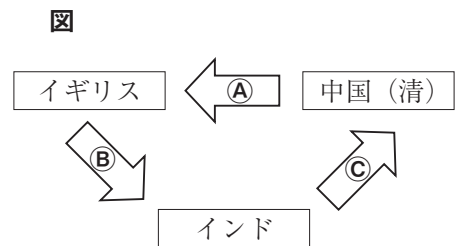
ア 6 : 4 イ 7 : 3 ウ 8 : 2 エ 9 : 1

〔問2〕 略地図中のパリは、北海道の札幌よりも高い緯度に位置しますが、冬季は札幌よりも温暖で、月別降水量は一年を通じて平均しています。その理由を簡潔に書きなさい。

〔問3〕 文中の下線**a**にあたるものを、略地図中のA～Dの中から1つ選び、その記号を書きなさい。

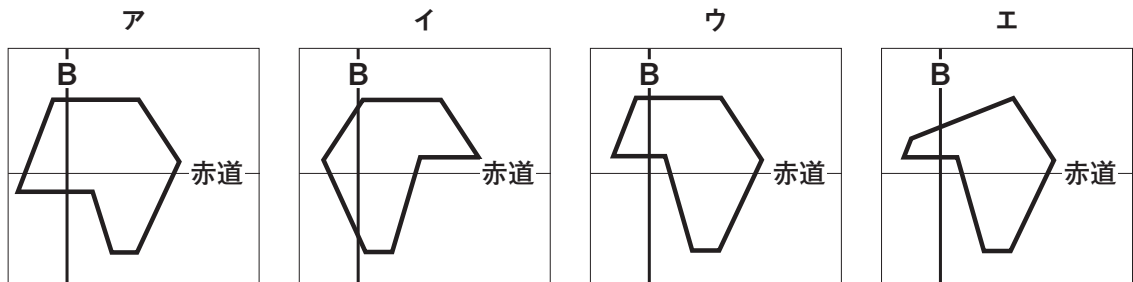
〔問4〕 文中の下線**b**に関し、日本の標準時が午後5時のとき、パリはフランスの標準時で午前9時でした。このことから、フランスの標準時の基準は東経何度ですか、書きなさい。ただし、日本の標準時は東経135度を基準とします。

〔問5〕 文中の下線**c**に関し、**図**は、19世紀前半のイギリス、中国（清）、インドの間で行われた三角貿易における品物の流れについて表したものです。図中の**A**～**C**にあてはまる品物の組み合わせとして最も適切なものを、次のア～エの中から1つ選び、その記号を書きなさい。



- ア **A**－茶・絹 **B**－綿織物 **C**－アヘン
- イ **A**－茶・絹 **B**－アヘン **C**－綿織物
- ウ **A**－綿織物 **B**－茶・絹 **C**－アヘン
- エ **A**－綿織物 **B**－アヘン **C**－茶・絹

〔問6〕 文中の下線①に関し、略地図に表していないアフリカ大陸の形を、社会科の授業で学んだ直線を使ったかき方で最も適切に表したものはどれですか。次のア～エの中から1つ選び、その記号を書きなさい。



〔問7〕 文中の下線②に関し、日本の輸入における海上輸送の特徴について、輸入品目と輸入量に着目して、簡潔に書きなさい。

2 和歌山県に住む徹子さんは、夏休みに鉄道を利用して家族で北陸地方へ旅行をしました。次の文は、旅行から帰ってきた家族の会話の一部です。これを読み、〔問1〕～〔問5〕に答えなさい。

- 母 : ①鉄道を使った旅行も、良かったわね。
 父 : そうだね。列車の窓からゆっくりと眺めを楽しめたよ。
 徹子 : 信濃川沿いの水田が、緑一色できれいだったね。
 父 : やはり、越後平野は②日本の米作りの中心地の一つだからね。
 徹子 : それに、金沢では③お城や武家屋敷が続く古いまちなみも心に残ったわ。
 母 : 染め物や陶磁器などの伝統産業がさかんだったわね。
 徹子 : それから、④富山市で、初めて路面電車に乗れてうれしかったわ。
 母 : どのまちの風景にも、それぞれ特色があるものね。
 徹子 : まちの風景には、そこで生活する人々の営みや工夫が表れると学校で習ったわ。
 父 : 私たちが住んでいるまちにも、個性的なところもあるよね。
 徹子 : 私たちのまちのことも、調べてみたいな。
 父 : それはいいね。きっと、今まで気づかなかったまちの姿がみえてくるよ。
 徹子 : 学校で学んだ⑤身近な地域の調べ方を参考にしてみるわ。

〔問1〕 文中の下線①に関し、図は、徹子さんの家族が利用した鉄道の経路を示したものです。図を見て、次の(1)、(2)に答えなさい。

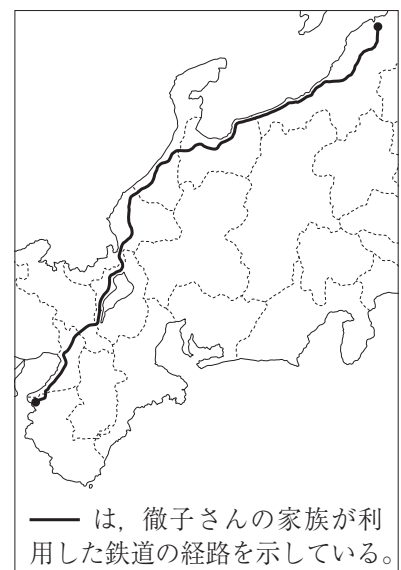
(1) 徹子さんの家族が旅行をした時に通過した県を、次のア～エの中から1つ選び、その記号を書きなさい。

ア 岐阜県 イ 山梨県 ウ 長野県 エ 福井県

(2) 図中の日本海側の地域における冬の気候の特色について、最も適切に述べているものを、次のア～エの中から1つ選び、その記号を書きなさい。

- ア 北西の季節風の影響で、乾燥する。
 イ 南東の季節風の影響で、乾燥する。
 ウ 北西の季節風の影響で、降水量が多い。
 エ 南東の季節風の影響で、降水量が多い。

図



〔問2〕 文中の下線⑥に関し、次の文A～Cを読み、日本の米作りの現状について説明した文としての正誤をそれぞれ判断し、その組み合わせとして適切なものを、下のア～エの中から1つ選び、その記号を書きなさい。

A 米の自給率は、約50%前後である。

B 新しい品種の稲の開発が行われ、味の良い米作りが進められている。

C 米の総生産量は増加し続けている。

ア A—正 B—誤 C—正 イ A—誤 B—正 C—誤

ウ A—正 B—正 C—誤 エ A—誤 B—誤 C—正


〔問3〕 文中の下線⑦に関し、戦国時代から江戸時代にかけて、城を中心に発達した都市のことを何といいますか、書きなさい。

〔問4〕 文中の下線⑧に関し、徹子さんは、2万5千分の1の地形図を用いて、家族旅行で訪れた富山市のまちのようすをふり返ってみました。地形図を見て、次の(1)、(2)に答えなさい。

(1) 地形図から読みとれる内容を述べた文として正しいものを、次のア～エの中から1つ選び、その記号を書きなさい。

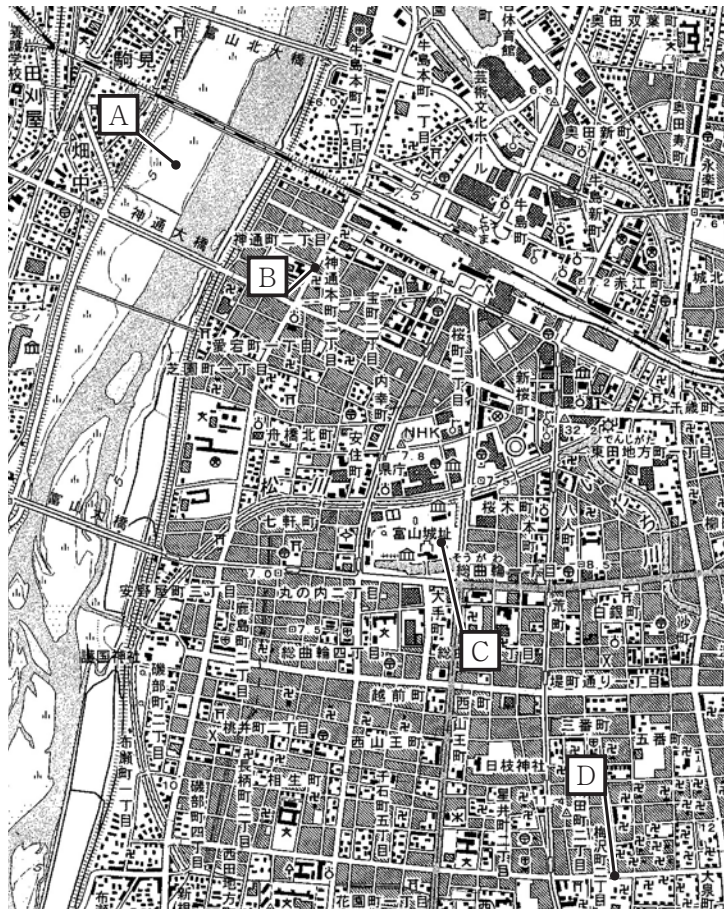
ア **A** 地点のある富山北大橋と神通大橋の間の河川敷一帯は、田として利用されている。

イ **B** 地点の南西の方向には、富山市役所がある。

ウ **C** 地点のある富山城址には地図記号  が記されていることから、高等学校があることがわかる。

エ **D** 地点のある梅沢町二丁目とその周辺には、寺院が集まっている。

(2) 地形図中の **B** 地点から **C** 地点までの直線の長さは、地形図上では4cmあります。実際の距離は、何mになりますか、書きなさい。




(国土地理院平成18年発行2万5千分の1「富山」から作成)

〔問5〕 文中の下線⑨に関し、徹子さんは、新旧の2万5千分の1の地形図を比較して、自分たちの住んでいる地域の移り変わりについて調べることにしました。地形図のどのようなことに着目して比較すればよいですか、3つ書きなさい。

3 次の【あ】～【か】のカードは、文子さんが夏休みの自由研究で、各時代を表す切手について調べ、その時代背景などをまとめたものです。これを読み、〔問1〕～〔問11〕に答えなさい。


【あ】



この仏像は、^{あすか} **あ** 飛鳥文化を代表する弥勒菩薩像です。^{しょうとくだいし} **b** 聖徳太子にゆかりのある仏像で、京都の広隆寺におさめられています。

こうりゅうじ みろくぼざつぞう
広隆寺弥勒菩薩像


【い】



この建物は、^{あみ} **c** 阿弥陀仏にすがり極楽浄土へ生まれ変わることを願う、^{ふじわらのみちなが} **d** 藤原道長の子である頼通が建てました。

ひょうどういんほうおうどう
平等院鳳凰堂


【う】



この建物は、^{あしかがよしまさ} 足利義政が東山に建てた別荘で、彼の死後、^{じしやう} **c** 慈照寺となりました。当時、^{かみ} **f** 下の身分の者が実力で上の身分の者にとってかわる風潮が広がりました。

じしやうじぎんかく
慈照寺銀閣


【え】



この建物のある日光東照宮は、^{とくがわいえ} **g** 徳川家光によって大改修が行われてほぼ現在の姿となりました。特に、陽明門には、将軍の権威と力を示すような豪華さがあります。


にっこうとうりやうぐうようめいもん
日光東照宮陽明門

【お】



この建物は、フランスの技術や機械を導入して、1872年に群馬県に建てられた官営の模範工場です。日本は^{ひら} **h** 開国の後、近代産業を育てる殖産興業を進めました。

【か】



日本の外交官だった杉原千畝は、^に **i** 第二次世界大戦の最中、自らの判断で多くのユダヤ人を救いました。その功績は、^{せんご} **j** 戦後、高く評価され、イスラエル政府から表彰されました。

すぎはらちうね
杉原千畝

〔問1〕 文中の下線**あ**に関し、次の文**A**～**C**は、飛鳥文化または国風文化（国風の文化）について述べたものです。**A**～**C**は、どちらの文化について述べたものであるかをそれぞれ判断し、その組み合わせとして適切なものを、下の**ア**～**エ**の中から1つ選び、その記号を書きなさい。

- A** かな文字がつくられ、『枕草子』などが書かれた。
- B** 仏像や寺院が多くつくられ、法隆寺が建てられた。
- C** 大和絵とよばれる絵画がえがかれるようになった。

- ア** **A**－飛鳥文化 **B**－国風文化 **C**－飛鳥文化 **イ** **A**－飛鳥文化 **B**－飛鳥文化 **C**－国風文化
- ウ** **A**－国風文化 **B**－飛鳥文化 **C**－国風文化 **エ** **A**－国風文化 **B**－国風文化 **C**－飛鳥文化

〔問2〕 文中の下線**b**によって、^{おののいもこ} 小野妹子のように中国に派遣された使節を何といいますか、書きなさい。

〔問3〕 文中の下線**c**に関し、社会が乱れ、人々の心に不安が高まったことからおこった^{しんこう} 信仰を何といいますか、書きなさい。

〔問4〕 文中の下線**d**に関し、藤原氏は、朝廷の高い地位につき、政治の実権をにぎるようになりました。このような政治のしくみを何といいますか、書きなさい。

〔問5〕 文中の下線**e**に関し、**図1**は、^{とうくどう} 慈照寺にある東求堂の内部です。このような建築様式を何といいますか、書きなさい。

図1



〔問6〕 文中の下線⑥に関し、次の(1)、(2)に答えなさい。

(1) このような風潮を何といいますか、書きなさい。

(2) 現在の京都府南部の地域においては、武士と農民が一体となり守護大名を追い出し、自治を行いました。このできごとを何といいますか、書きなさい。

〔問7〕 文中の下線⑧によって制度化された参勤交代をきっかけに交通路の整備が進められました。

このうち、東海道などの江戸を起点とした主要な道をまとめて何といいますか、書きなさい。

〔問8〕 カード【お】の にあてはまる官営の模範工場の名称を書きなさい。

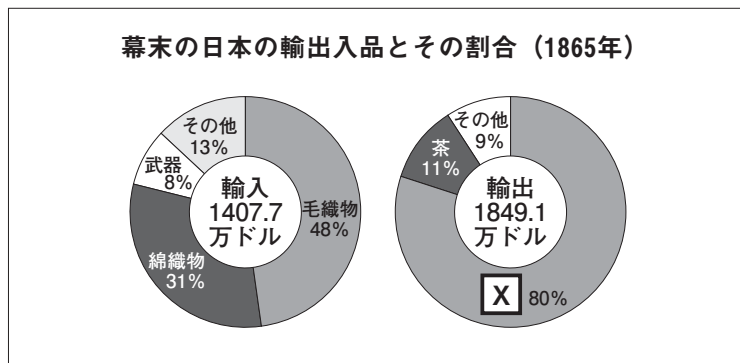
〔問9〕 文中の下線⑨に関し、次の(1)、(2)に答えなさい。

(1) 日米修好通商条約によって新たに開かれた港のうち、当時の貿易で中心となった港はどこですか、次のア～エの中から1つ選び、その記号を書きなさい。

ア 長崎 イ 神奈川（横浜） ウ 函館 はこだて エ 兵庫（神戸）

(2) 図2は、幕末の日本の輸出入品とその割合を表したものです。 にあてはまる輸出品名を書きなさい。

図2



(「日本経済史」3から作成)

〔問10〕 文中の下線⑩に関し、次の説明文は第二次世界大戦にいたる過程を述べたものです。説明文中の () にあてはまる文を、「ソ連」「ポーランド」の2語を用いて書きなさい。

説明文

ドイツは、オーストリアなどを併合し、イタリアと軍事同盟を結んだ。
その後ドイツは、()。
これに対し、イギリスとフランスがドイツに宣戦し、第二次世界大戦が始まった。

〔問11〕 文中の下線⑪に関し、次の切手ア～エが表した第二次世界大戦後のできごとを、年代の古い順に並べるとどのようになりますか、その記号を順に書きなさい。



4 紀子さんのクラスでは、課題学習で2009年にあった日本と世界のニュースについて、班に分かれて調べ、その結果を壁新聞にまとめました。次の壁新聞は、政治をテーマに調べた班のもので、これを読み、[問1]～[問6]に答えなさい。


日本と世界の

ビッグ・ニュース2009

1班

司法 I 制度が始まる


この制度は、国民の視点や感覚を裁判に反映させ、司法に対する国民の理解を深め、その信頼が高まることを期待するもので、一般の国民が、① **裁判官**といっしょに重大な刑事裁判の審理に加わるようになりました。私たちが将来、I に選ばれることがあるかもしれません。裁判についてもっと関心をもつ必要があると思いました。



▲新しい制度による法廷のようす

立法 **衆議院議員選挙が実施される**

② **衆議院が解散され**、8月に衆議院議員選挙が実施されました。選挙は、国民が政治に参加する重要な機会です。私たちが将来、投票に行こうと思いました。



▲国会議事堂

行政 **新しい内閣が誕生**

③ **衆議院議員選挙の結果**、内閣総理大臣（首相）が国会で指名され、新しい④ **内閣**が誕生しました。内閣には、行政の各部門の仕事を指揮したり、法律で定められたことを実行していく重要な責任があります。行政の仕事は、私たちの生活にも直接関係することがあるので、関心をもたなければならないと思いました。

国際政治 **環境問題に大きな動き**

国際会議では、⑤ **地球環境問題**など、地球の将来に関する話し合いが活発に行われました。地球環境問題では、地球温暖化が注目されていますが、そのほかにも、オゾン層の破壊や砂漠化などの問題も重要です。私たちが、自分たちの未来のために、環境問題について真剣に考えなければならないと思いました。

[問1] 文中のIにあてはまる語句を書きなさい。

[問2] 文中の下線①に関し、図は、日本国憲法のもとの三権分立のしくみについて表しています。裁判官の弾劾裁判を示しているものはどれですか、図中のア～エの中から1つ選び、その記号を書きなさい。

[問3] 文中の下線②に関する説明として正しいものを、次のア～エの中から1つ選び、その記号を書きなさい。

- ア 議員数は242人である。
- イ 議員の任期は6年である。
- ウ 被選挙権は30歳以上である。
- エ 選挙は小選挙区比例代表並立制で行われる。

[問4] 文中の下線③に関し、この時に開かれる国会の名称を、次のア～エの中から1つ選び、その記号を書きなさい。

- ア 臨時会 イ 常会 ウ 特別会 エ 緊急集会

[問5] 文中の下線④に関し、次の(1)、(2)に答えなさい。

(1) 内閣が、国会の信任に基づいて成立し、国会に対し連帯して責任を負うしくみを何といいますか、書きなさい。

(2) 内閣が行う仕事として正しいものを、次のア～エの中から1つ選び、その記号を書きなさい。

- ア 条約を結ぶこと。
- イ 条例を制定すること。
- ウ 国政調査権に基づく調査を行うこと。
- エ 予算の議決を行うこと。

[問6] 文中の下線⑤に関し、酸性雨がおもな原因となって、特にヨーロッパにおいてどのようなことが生態系におこっていますか、簡潔に書きなさい。

図 三権分立のしくみ

- 6 -

- 5 秋夫さんたちは、職場体験で学んだことをそれぞれレポートにまとめました。次の文は、そのレポートの一部です。これを読み、〔問1〕～〔問5〕に答えなさい。

〈秋夫〉

家庭用品を作っている工場で職場体験をしました。自分が作業にかかわったものが完成したときは、本当にうれしくて、自分が **a** 作ったものを使ってくれる人のようすも想像してしまいました。生産者は、消費者がどういうものを求めているかを常に考えて、ものを作っていると工場の人が話してくれました。また、100点満点をめざして仕事をしないと、お客さんに満足してもらえないという言葉が特に心に残っています。

〈太郎〉

スーパーマーケットで職場体験をしました。予想以上に商品の種類が多いことに驚きました。店に商品を並べるとき、お客さんにわかりやすいように工夫することが大切だと教えてもらい、作業を手伝いました。いろんな商品をいろんな **b** 会社が作っていましたが、中には **c** 生産している会社がいくつかに限られている商品もありました。店内の掃除や商品整理なども、お客さんに気持ちよく買い物をしてもらうためだとわかりました。

〈和子〉

みかん農園で職場体験をしました。みかんを一つ一つ丁寧に収穫しました。選別するときには、機械だけではなく、人の目でも厳しく確認していました。出荷作業を手伝っているときには、 **d** 市場でのみかんの価格が決まるしくみなどを教えてもらいました。また、みかんを詰める箱には農園や地域の名称が書かれていて、農家の人たちは心を込めて育て、自信をもって出荷していることがわかりました。

- 〔問1〕 文中の下線**a**に関し、工場で作られた商品などが私たち消費者に届くまでの流れを何と申しますか、書きなさい。
- 〔問2〕 文中の下線**b**に関し、この代表的なものが株式会社です。株式会社とはどのような会社ですか、次の語句を用いて、簡潔に説明しなさい。

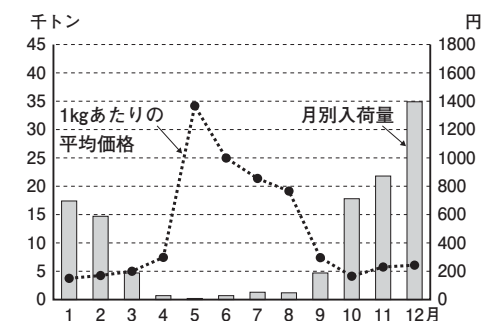
株式 資金

- 〔問3〕 文中の下線**c**に関し、生産や販売が少数の会社に集中している状態を何と申しますか、書きなさい。
- 〔問4〕 文中の下線**d**に関し、**図**は、平成20年1月から12月までの、東京都中央卸売市場でのみかん類の月別入荷量と平均価格の推移を表したものです。次の文は、和子さんが**図**をもとに需要と供給についてまとめたものの一部です。文中の **1** ～ **3** にあてはまる語句の組み合わせとして正しいものを、下の**ア**～**エ**の中から1つ選び、その記号を書きなさい。

文

9月、10月のみかん類の平均価格が、それぞれ前月に比べて下がっているのは、**1**が**2**したためだと考えられます。11月、12月に入荷量が増加しているのに平均価格が下がっていないのは、**3**が**2**したためだと考えられます。

図
みかん類の月別入荷量と平均価格の推移



(「東京都中央卸売市場年報」平成20年版から作成)

- | | | | | | | |
|----------|----------|-------|----------|------|----------|-------|
| ア | 1 | - 需要量 | 2 | - 減少 | 3 | - 供給量 |
| イ | 1 | - 需要量 | 2 | - 増加 | 3 | - 供給量 |
| ウ | 1 | - 供給量 | 2 | - 減少 | 3 | - 需要量 |
| エ | 1 | - 供給量 | 2 | - 増加 | 3 | - 需要量 |

- 〔問5〕 秋夫さんたちは、職場体験で働くことの大切さを学び、社会科の授業では、働く人を守るためにさまざまな法律が定められていることを学習しました。日本国憲法第27条②の「賃金、就業時間、休息その他の勤労条件に関する基準は、法律でこれを定める。」という規定に基づいて制定された法律を何と申しますか、書きなさい。