

平成 24 年 度

和歌山県高等学校入学者選抜学力検査問題

社 会

(10時30分～11時20分)

(注 意)

- 1 「始め」の合図があるまで、問題を見てはいけません。
- 2 問題冊子と別に解答用紙が1枚あります。答えは、すべて解答用紙に記入下さい。
- 3 問題冊子と解答用紙の両方の決められた欄に、受検番号を記入下さい。
- 4 印刷が悪くて分からないときや筆記用具を落としたときなどは、黙って手を挙げ下さい。
- 5 時間内に解答が終わっても、その場に着席して下さい。
- 6 「やめ」の合図があったら、すぐに解答するのをやめ、解答用紙を裏向けにして机の上に置き下さい。

受 検 番 号

受 検 番 号

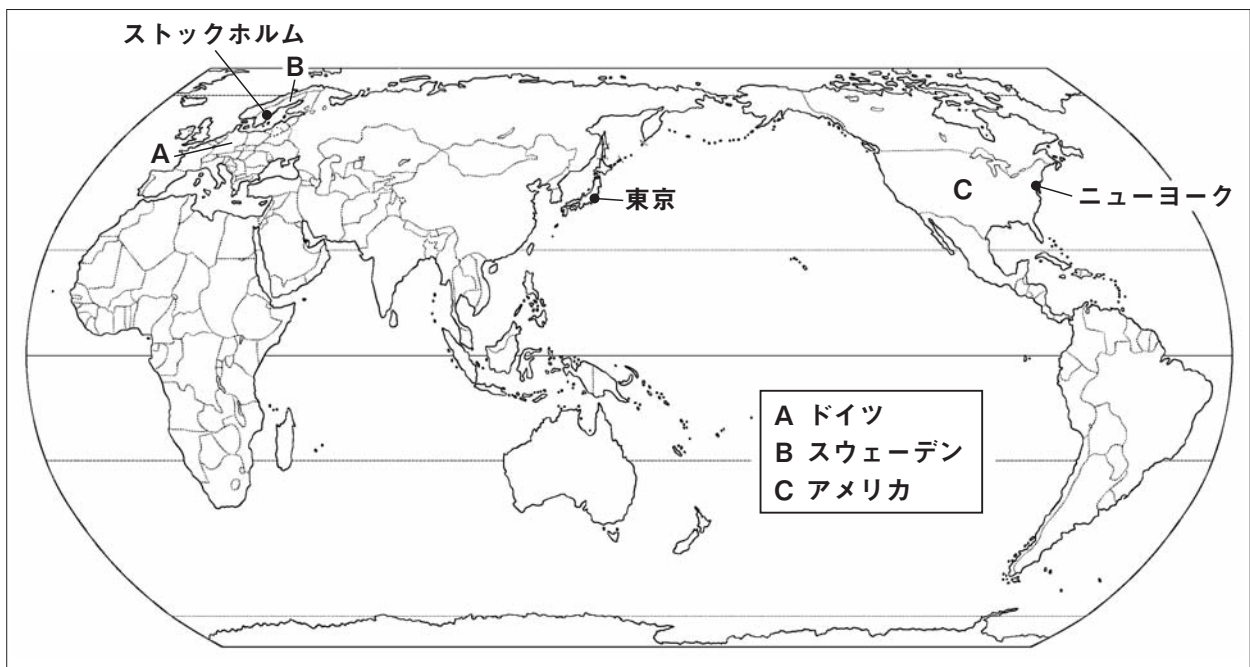
- 1** 春香さんは、2011年に開催された女子サッカーワールドカップドイツ大会の決勝トーナメントに出場した国々に興味をもち、「世界の国調べ」をしました。次の文はその発表原稿の一部です。これを読み、下の略地図を見て、〔問1〕～〔問5〕に答えなさい。

女子サッカーワールドカップは、男子サッカーと同様に4年に1度行われており、今回のドイツ大会は6回目となります。日本は第1回大会から出場しています。

今大会の決勝トーナメントには、予選等を勝ち抜いてきたアメリカ、イングランド、オーストラリア、**a**スウェーデン、ドイツ、日本、ブラジル、フランスの8チームが進出しました。決勝トーナメントで日本は、ドイツ、スウェーデン、アメリカと対戦して見事優勝を果たし、私たちに感動を与えてくれました。

そこで私は、**b**日本が対戦した3か国について調べることにしました。これらの国の位置を地図に書き込んでみると、ドイツやスウェーデンはサッカーの盛んな 州にあることがわかりました。また、資料を調べた結果、アメリカは世界有数の人口、面積をもつ国だということもわかりました。

c交通網が発達した現在、サッカーなどのスポーツをはじめとして、**d**政治や経済など様々な面で世界の国々はつながっています。私はこれから、世界の国々の結びつきについてより深く知りたいと思いました。



- 〔問1〕 文中の にあてはまる語句を書きなさい。
 〔問2〕 文中の下線**a**に関し、この国の首都ストックホルムの緯度、経度に最も近いものを、次のア～エの中から1つ選び、その記号を書きなさい。

ア 北緯59度 東経18度 イ 北緯59度 東経162度

ウ 北緯31度 西経18度 エ 北緯31度 西経162度

- 〔問3〕 文中の下線**b**に関し、表1は、日本と日本が対戦した3か国の人口、面積について示したものです。これを見て、次の(1)、(2)に答えなさい。

表1

- (1) 表1中の にあてはまる数字として最も適切なものを、次のア～エの中から1つ選び、その記号を書きなさい。

ア 28 イ 38 ウ 48 エ 58

- (2) 表1中のアメリカ、スウェーデン、ドイツの3か国のうち、人口密度が最も高い国はどこですか、その国名を書きなさい。

国名	人口 (万人)	面積 (万km ²)
日本	12806	<input type="text"/>
アメリカ	31038	963
スウェーデン	938	45
ドイツ	8230	36

(「世界国勢図会」2011/12年版から作成)

〔問4〕 文中の下線㉓に関し、表2は、ある航空会社の時刻表をもとに作成したものです。往復とも同じ航空機で、同じ航空路を飛ぶにもかかわらず、所要時間に差があります。その主な理由を自然条件に着目して、簡潔に書きなさい。

表2

東京	ニューヨーク	所要時間
発 11:00	→ 着 23:30	12時間30分
着 15:25	← 発 1:15	14時間10分

※時刻はすべて日本標準時で示しています。

〔問5〕 文中の下線㉔に関し、表3は、アメリカ、オーストラリア、ブラジル、フランスの4か国について、それぞれの国の一人あたりの国民総所得、輸出総額、主要輸出品の輸出額、輸入総額、主要輸入品の輸入額を示したものです。オーストラリアにあたるものを、表3中のア～エの中から1つ選び、その記号を書きなさい。

表3

	一人あたりの国民総所得 (ドル)	輸出総額 (百万ドル)	主要輸出品の輸出額 (百万ドル)	輸入総額 (百万ドル)	主要輸入品の輸入額 (百万ドル)
ア	45402	153767	石炭 31068 鉄鉱石 23573 金 (非貨幣用) 11807	158941	機械類 43060 自動車 15823 原油 9760
イ	41565	464113	機械類 95514 自動車 41709 航空機 34529	540502	機械類 111823 自動車 51687 原油 31790
ウ	44999	1299899	機械類 372535 自動車 106295 航空機 71951	2164834	機械類 517307 原油 363391 自動車 194407
エ	7949	152995	機械類 13769 鉄鉱石 13247 肉類 11506	127647	機械類 36911 自動車 11328 原油 9206

(「世界国勢図会」2011/12年版から作成)

2 次の文は、10月に実施された九州方面への修学旅行の事前学習として、和美さんが書いたレポートの一部です。これを読み、〔問1〕～〔問6〕に答えなさい。

私たちの修学旅行は、行きは、新大阪駅から熊本駅まで **a** 新幹線を利用し、帰りは、新門司港から大阪南港まで **b** 瀬戸内海を経由するフェリーを利用します。

一日目は、熊本城と **c** 阿蘇山を見学し、二日目は、福岡県内でテーマ別のグループ活動を行います。

福岡県には、見学や学習のできる場所が多くあります。なかでも、福岡市博物館は、福岡の歴史とくらしについて学ぶことができ、国宝の **d** 金印も展示されています。太宰府天満宮は、学問の神様として知られる菅原道真がまつられていることでも有名です。

また、福岡県の北部に位置する北九州市は、古くから鉄鋼業などの **e** 産業が発達してきましたが、大気汚染や水質汚濁などが深刻な問題となっていました。近年ではそのことを教訓にして、エコタウン事業などにより **f** 環境の保全に取り組んでいます。

私は、北九州エコタウンセンターに行き、資源循環型社会について学習するつもりです。

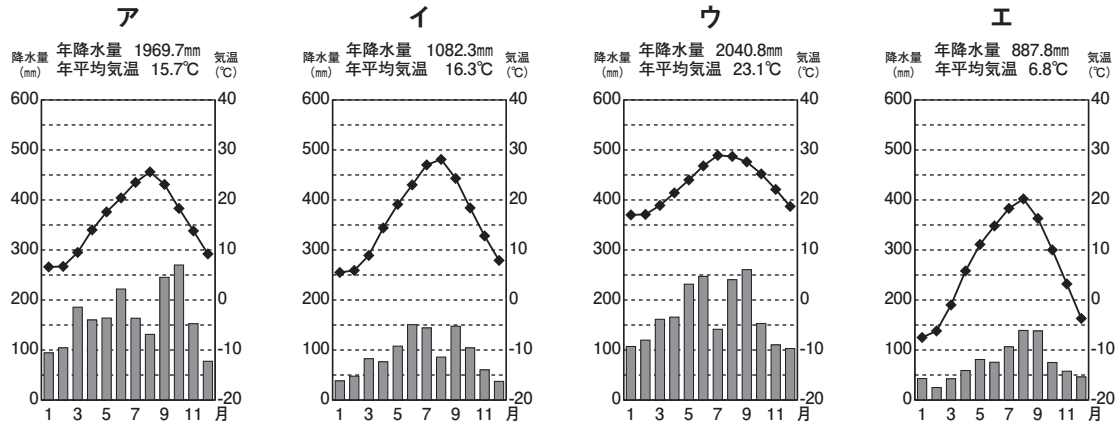
— は新幹線、..... はフェリーの経路を、それぞれ示している。

〔問1〕 文中の下線a)に関し、図1は、新幹線が、新大阪駅を出発してから博多駅までの間で、通過する府県を順に並べて表しています。□ A～Dにあてはまる県名を、それぞれ書きなさい。

図1



〔問2〕 文中の下線⑥に関し、次のア～エは、それぞれ、日本のある都市の気温と降水量を表したものです。このうち瀬戸内海に面している高松にあたるものを1つ選び、その記号を書きなさい。



(気象庁ホームページから作成)

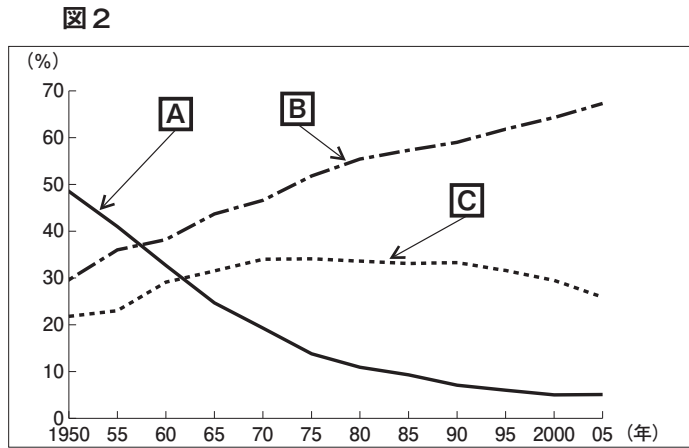
〔問3〕 文中の下線⑦に関し、火山は、ときには噴火による災害をひき起こしますが、私たちに恩恵をもたらすこともあります。火山がもたらす恩恵について、簡潔に書きなさい。

〔問4〕 文中の下線⑧に関し、次の説明文の□にあてはまる中国の王朝名を書きなさい。

説明文

中国の歴史書には、1世紀の中ごろ、倭の奴の国王が□に使いを送り、皇帝から金印などを与えられたと記されています。

〔問5〕 文中の下線⑨に関し、図2は、日本の産業別就業者の割合が、どのように移り変わったかを示したものです。図2中のA～Cにあたる産業の組み合わせとして正しいものを、下のア～エの中から1つ選び、その記号を書きなさい。



(「数字でみる日本の100年」から作成)

- | | | | |
|---|-----------------|-----------------|-----------------|
| ア | A —第1次産業 | B —第2次産業 | C —第3次産業 |
| イ | A —第2次産業 | B —第3次産業 | C —第1次産業 |
| ウ | A —第3次産業 | B —第2次産業 | C —第1次産業 |
| エ | A —第1次産業 | B —第3次産業 | C —第2次産業 |

〔問6〕 文中の下線⑩に関し、1993年に日本の環境保全についての理念などが定められた法律が公布されました。この法律を何といいますか、書きなさい。

3 次のA～Eの資料は、それぞれ「日本と外国とのかかわり」についてまとめ、年代の古い順に並べたものです。これらを見て、〔問1〕～〔問11〕に答えなさい。

A		<p>この絵は、鳥毛立女屏風にえがかれた樹下美人図で、聖武天皇の遺品を収蔵した東大寺の に納められていました。㉑奈良時代には、遣唐使などによって唐の進んだ文化が伝えられました。このため、㉒唐の影響を強く受けた国際色豊かな文化が都を中心に広がりました。</p>
B		<p>フビライは、中国や朝鮮半島だけでなく、日本も従えようとして二度にわたって攻めてきました。この絵は、その時のようすをえがいたものです。㉓御家人たちは、命をかけて戦い、元軍をしりぞけましたが、戦いののち、幕府への不満を強めていきました。</p>
C		<p>織田信長、㉔豊臣秀吉らによって全国統一が進められていたころ、㉕ポルトガル人やスペイン人が九州各地などに来航し、貿易が盛んになりました。この絵は、来航のようすをえがいたものです。この貿易で、ヨーロッパのめずらしい品物ばかりでなく、新しい知識や技術などももたらされました。</p>
D		<p>長州藩は、下関海峡を通過する外国船を砲撃し、海峡を封鎖しました。そのため、イギリスなど4か国の連合艦隊から攻撃を受け、下関砲台を占領されてしまいました。この写真は、その時のものです。㉖長州藩は欧米の軍隊と実際に戦って敗れ、攘夷が不可能であることを知りました。</p>
E		<p>㉗第一次世界大戦が終わり、パリで講和会議が開かれ、日本からも代表が参加しました。この絵は、講和会議でのベルサイユ条約の調印のようすをえがいたものです。この条約で、㉘ドイツは植民地のすべてを失い、多額の賠償金を支払うことになりました。その後、各国は、再び戦争が起こらないよう国際連盟を結成するなど、㉙国際協調に向けて努力を続けました。</p>

〔問1〕 文中の にあてはまる歴史的建造物を何といいますか、書きなさい。

〔問2〕 文中の下線㉑に関し、この時代のできごととして適切に述べているものを、次のア～エの中から1つ選び、その記号を書きなさい。

- | | |
|-----------------------|-----------------|
| ア 皇位をめぐる壬申の乱が起こった。 | イ 墾田永年私財法が出された。 |
| ウ 坂上田村麻呂が征夷大将軍に任命された。 | エ 大宝律令が定められた。 |


〔問3〕 文中の下線㉒に関し、この時代の文化を何といいますか、書きなさい。

- 〔問4〕 文中の下線㉓に関し、戦いに参加した御家人が、幕府への不満を強めた主な理由を、簡潔に書きなさい。
- 〔問5〕 文中の下線㉔の人物が行ったことについて適切に述べているものを、次のア～エの中から1つ選び、その記号を書きなさい。
- ア 倭寇を取りしまり、勘合貿易を開始した。
- イ 貿易港を長崎に限定し、貿易の統制を行った。
- ウ 執権の地位につき、将軍を補佐して政治を行った。
- エ 関白の地位につき、天皇の権威を利用して政治を行った。
- 〔問6〕 文中の下線㉕に関し、次の(1)、(2)に答えなさい。
- (1) この貿易を何といいますか、書きなさい。
- (2) この貿易とともに各地に伝えられ、のちの鎖国に大きな影響を与えた宗教は何ですか、書きなさい。
- 〔問7〕 文中の下線㉖に関し、こののち、長州藩はどのような行動をとりましたか、次の語句を用いて、簡潔に書きなさい。

同盟 幕府

- 〔問8〕 文中の下線㉗に関し、次の(1)、(2)に答えなさい。
- (1) 第一次世界大戦中の日本と外国との関係について適切に述べているものを、次のア～エの中から1つ選び、その記号を書きなさい。
- ア ロシアとの間で、樺太・千島交換条約を結んだ。
- イ 中国に二十一か条の要求を示し、大部分を認めさせた。
- ウ ロシア、フランス、ドイツの三国からの干渉を受け入れた。
- エ 関税自主権を完全に回復し、欧米諸国と対等な関係をもつようになった。
- (2) 日本は、1902年の外交上のできごとに基づいて参戦しました。このできごとは何ですか、書きなさい。
- 〔問9〕 文中の下線㉘では、1919年に世界で初めて社会権を保障した憲法が制定されました。この憲法を何といいますか、書きなさい。
- 〔問10〕 文中の下線㉙に関し、1921年から翌年にかけて、アメリカのワシントンで、国際協調の実現を目指した会議が開かれました。このとき、日本と中国との間で、どのようなことが取り決められましたか、簡潔に書きなさい。
- 〔問11〕 次の資料を、A～Eの資料につけくわえることにしました。年代の古い順に並べるためにはどの位置にあてはめるのが適切ですか、下のア～エの中から1つ選び、その記号を書きなさい。

資料

		<p>この絵は、菱川師宣のえがいた見返り美人図とよばれる浮世絵です。流行の髪形と衣装がよく見えるように、後ろを振り向いたポーズが美しくえがかれています。浮世絵は、のちに版画として大量に印刷されるようになり、外国の絵画にも影響を与えました。</p>
--	---	---

- ア AとBの間 イ BとCの間 ウ CとDの間 エ DとEの間

4 次の文は、一郎さんが社会科の課題学習で国会について調べたことをまとめたものです。これを読み、〔問1〕～〔問6〕に答えなさい。

日本国憲法は、国家の権力を、立法権、行政権、
 司法権の三権に分け、それぞれを独立した機関
 に担当させています。そのうち、立法権を担当して
 いるのが国会です。


私たちは、国会について比較的簡単に調べることが
 できます。国会議事堂は一般に開放されており、
 だれでも見学することができ、
 新しい法律が成立するまでどのような審議が行われるかを模擬体験
 できるプログラムも用意されています。また、ホーム
 ページからパンフレットをダウンロードすること
 が可能で、国会議事堂の各部屋の様子や、
 衆議院と参議院の違いなどがわかりやすく書かれています。

今回、国会について調べ、印象に残ったことがあります。国会議事堂の中央広間には三人の銅像が置
 かれています。そのうちの一人、
 板垣退助は自由民権運動を起こし、日本初の
 政党である自由党の
 党首をつとめました。また、
 大隈重信は日本初の政党内閣の内閣総理大臣で、
 立憲改進黨の党首として
 議會政治確立のため活動しました。□は日本初の内閣総理大臣であり、大日本帝国憲法の草案の
 作成にあたって中心的役割を果たしました。

このように彼らは、国会の歴史に大きな影響を与えた人物で、台座の上から広間を見下ろしています。
 そして、そこにはもう一つ、何も置かれていない台座があります。これは一説には、「政治に完成はな
 い、未完の象徴である」ということを示したものだといわれています。

三人の銅像

台座

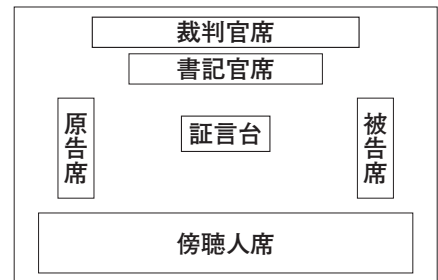


〔問1〕 文中の□にあてはまる人物名を書きなさい。

〔問2〕 文中の下線a)に関し、日本国憲法には三つの基本原理（原則）があります。「国民主権」と
 「平和主義」、そして、あと1つは何ですか、書きなさい。

〔問3〕 文中の下線b)に関し、図1は裁判が行われる法廷の
 ようすを表しています。これは、刑事裁判と民事裁判の
 どちらの法廷のようすを表していますか、判断した理由
 もあわせて書きなさい。

図1

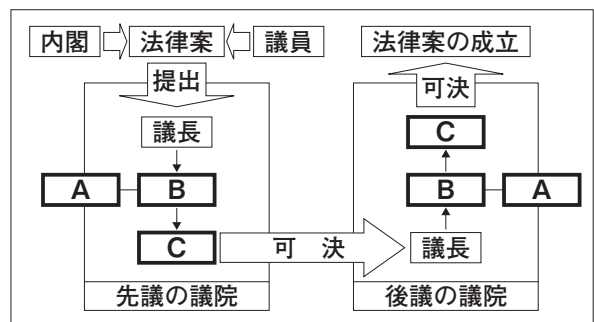


〔問4〕 文中の下線c)に関し、図2はその過程を
 表しています。図2中の□A～Cにあ
 てはまる語句を、次の語群の中から1つずつ
 選び、書きなさい。

語群

本会議 委員会 閣議 公聴会 国民投票

図2



〔問5〕 文中の下線d)に関し、両院の議決が異なった場合、国会の意思決定を容易にするため、多く
 の場合で衆議院の優越が認められています。参議院より衆議院の意思が尊重される理由を、簡潔
 に書きなさい。

〔問6〕 文中の下線e)に関し、選挙には、政党の得票率に応じて議席を配分するしくみがあります。
 このしくみを何といいますか、書きなさい。

- 5 社会科の授業で、「国境を越えて結びつく経済」をテーマにして、班ごとに調べ学習を行いました。次の文は、その発表原稿の一部です。これを読み、〔問1〕～〔問6〕に答えなさい。

経済格差の問題 < A班 >

地球規模で経済活動が行われるようになり、世界経済は発展しています。しかし、工業化が進まず、資源にも恵まれないため、経済が停滞している国もあり、① 先進工業国と発展途上国の経済格差は縮小せず、むしろ拡大しているといえます。

貧困は犯罪や暴動、内戦などの原因となり、安定した社会の発展を妨げます。また、貧困は子どもたちから教育の機会を奪うことになり、将来の社会を支える人材育成という点でも課題となります。

貧しい国に住む人々の生活を良くするために、各国の政府は資金を提供するなど援助活動を行っています。② 国際連合においては、専門機関を通じて医療や教育の普及などに取り組んでいます。また、政府や国際機関だけでなく、などの民間組織の活動もこれまで以上に大きな役割が求められています。

日本の貿易の変化 < B班 >

世界の貿易は、一層多様で自由なものになっています。それに伴って、③ 日本の貿易の特色も大きく変わってきています。長い間、日本の工業は原材料を輸入し、高い技術で製品を作り輸出してきました。しかし、近年では食料品や衣料品、電化製品などの工業製品の輸入も増えています。

これは、日本の④ 企業が国外に工場を移転させたことや、アジアの国々の工業化が進んだことなどが理由です。

農業については、安い農作物を生産しているアメリカなどから、輸入の自由化を求められてきました。その結果、1990年代には牛肉やオレンジの輸入が自由化されました。今後もさらなる市場の開放を要求されることが予想されます。⑤ 海外の安い農作物の輸入が増大すると、日本の農業は大きな影響を受けることが心配されます。

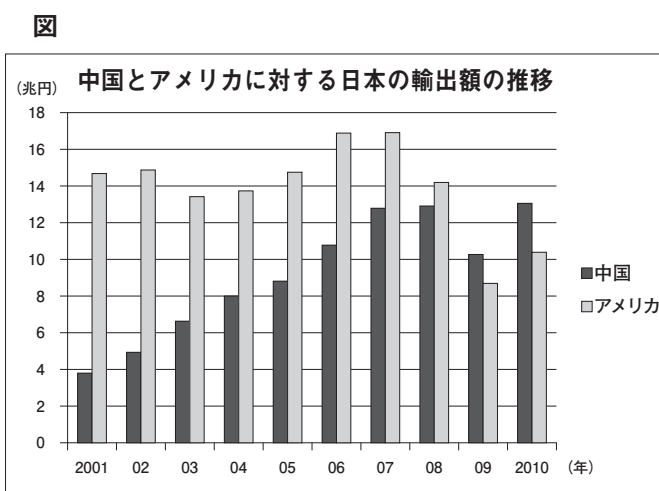
〔問1〕 文中のにあてはまるものを、次のア～エの中から1つ選び、その記号を書きなさい。

ア ILO イ PKO ウ NGO エ WHO

〔問2〕 文中の下線①に関し、先進工業国と発展途上国との間の経済格差と、その解消の問題を何と申しますか、書きなさい。

〔問3〕 文中の下線②に関し、5大国が常任理事国となり、世界の平和と安全の維持のために主要な責任を負う国際連合の機関を何と申しますか、書きなさい。

〔問4〕 文中の下線③に関し、は、中国とアメリカに対する日本の輸出額の推移を示したものです。これを見て、2001年からの10年間で、中国とアメリカに対する日本の輸出額がどのように変化してきていますか、その特徴を簡潔に説明しなさい。



(財務省ホームページから作成)

〔問5〕 文中の下線④に関し、複数の国にまたがって、世界各地で経済活動を営む大企業を何と申しますか、書きなさい。

〔問6〕 文中の下線⑤に関し、一般的に輸入農作物に比べて、国産農作物の価格が高くなるのはなぜですか。その理由を日本の農業の特徴に着目して、簡潔に書きなさい。