

平成 26 年度

和歌山県高等学校入学者選抜学力検査問題

社 会

(10時30分～11時20分)

(注 意)

- 1 「始め」の合図があるまで、問題を見てはいけません。
- 2 問題冊子と別に解答用紙が1枚あります。答えは、すべて解答用紙に記入下さい。
- 3 問題冊子と解答用紙の両方の決められた欄に、受検番号を記入下さい。
- 4 印刷が悪くて分からないときや筆記用具を落としたときなどは、黙って手を挙げ下さい。
- 5 時間内に解答が終わっても、その場に着席して下さい。
- 6 「やめ」の合図があったら、すぐに解答するのをやめ、解答用紙を裏向けにして机の上に置き下さい。

受 検 番 号

受 検 番 号

1 勇気さんのクラスは、社会科の授業で「世界の国と日本とのつながり」をテーマにして、調べ学習を行いました。次の文は、勇気さんが、スペインと日本との交流についてまとめたレポートの一部です。これを読み、〔問1〕～〔問5〕に答えなさい。

a ヨーロッパにある **b** スペインと日本との交流は、400年以上の歴史があります。その歴史の中で、日本からスペインへの公式な使節団としては、1613年に仙台藩が派遣したものが最初とされています。この使節団が派遣されたころのスペインは、現在の **c** アメリカ、メキシコ、アルゼンチン、フィリピンにあたる地域などに植民地をもつ大帝国で、**d** 東南アジアの香辛料や中国の陶磁器などを扱う **e** 貿易も行っていました。

現在も、スペインと日本との交流は盛んで、仙台藩の使節団派遣から400年後にあたる2013年には、このことを記念した「日本スペイン交流400周年事業」が両国で始まりました。この事業では、2国間の相互理解の促進のため、様々な文化交流が行われています。

〔問1〕 文中の下線**a**に関し、次の(1)、(2)に答えなさい。

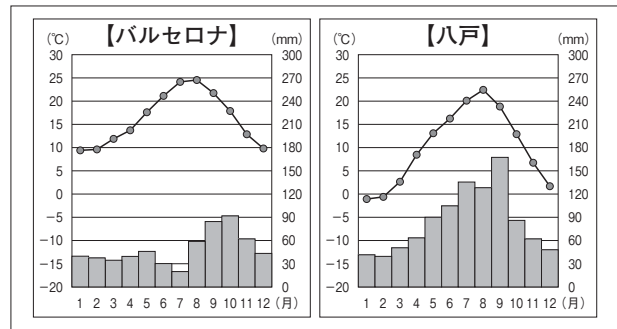
(1) ヨーロッパで広く信仰されている宗教を、次の**ア**～**エ**の中から1つ選び、その記号を書きなさい。

ア ヒンドゥー教 **イ** イスラム教 **ウ** キリスト教 **エ** 仏教

(2) ヨーロッパ連合(EU)が導入している共通通貨を何といいますか、書きなさい。

〔問2〕 文中の下線**b**に関し、**図1**は、スペインのバルセロナと、バルセロナとはちのへ同緯度にある青森県の八戸の気温と降水量を表したものです。八戸と比較して、バルセロナの夏と冬の気候の特色を、簡潔に書きなさい。

図1



(気象庁ホームページから作成)

〔問3〕 文中の下線**c**に関し、**図2**は、これら4つの国の首都を**A**～**D**で示した地図です。また、**図3**は、スペインの首都マドリードからの距離と方位が正しく表された地図です。これらを見て、4つの国の首都**A**～**D**をマドリードからの距離が短い順に並べるとどのようになりますか、その記号を順に書きなさい。

図2

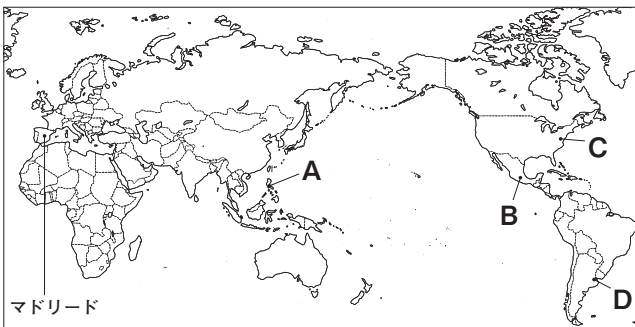
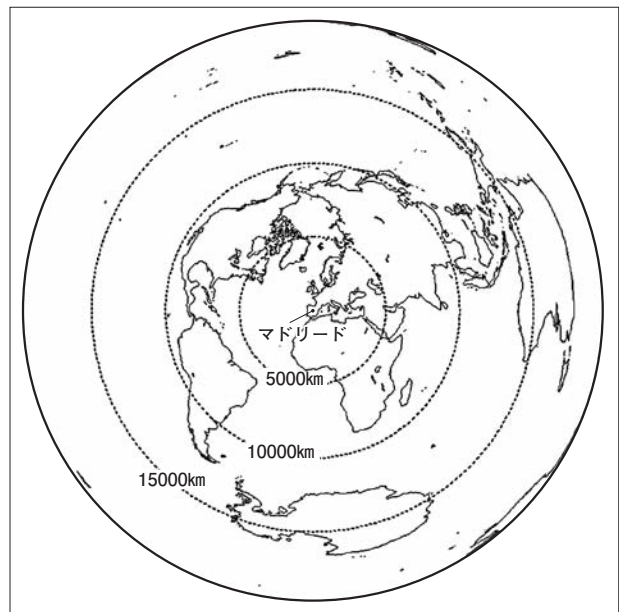


図3



〔問4〕 文中の下線**d**に関し、東南アジアからヨーロッパ、アフリカ大陸北部までつらなる造山帯を何といいますか、書きなさい。

〔問5〕 文中の下線㉔に関し、表は、スペイン、アメリカ、メキシコ、フィリピンについて、それぞれの相手先別輸出入額の上位5か国と、それぞれの国の輸出総額、輸入総額を示したものです。表中の **A** ~ **D** には、スペイン、アメリカ、メキシコ、フィリピンのいずれかの国があてはまります。表中の **A** ~ **D** にあてはまる国名を、それぞれ書きなさい。

表

国名	A		B		C		D	
輸出額 (百万ドル)	カナダ	280764	フランス	53549	日本	8866	A	274698
	D	197544	ドイツ	31831	A	7107	カナダ	10677
	中国	103879	ポルトガル	25003	中国	6102	中国	5965
	日本	66168	イタリア	24944	シンガポール	4278	コロンビア	5633
	イギリス	55964	イギリス	20225	〔香港〕	3699	B	4902
	輸出総額	1480528	輸出総額	300124	輸出総額	48189	輸出総額	349676
輸入額 (百万ドル)	中国	417354	ドイツ	48054	日本	6510	A	174356
	カナダ	320693	フランス	43794	A	6505	中国	52248
	D	265393	イタリア	24831	中国	6059	日本	16493
	日本	132442	中国	21503	シンガポール	4893	韓国	13690
	ドイツ	100408	オランダ	18585	韓国	4392	ドイツ	12863
	輸入総額	2264980	輸入総額	370606	輸入総額	60149	輸入総額	350842

※〔 〕は、地域であることを示します。

(「世界国勢図会」2013/14版から作成)

2 次の文は、由美さんが、「日本の食文化」というテーマでまとめたレポートの一部です。これを読み、〔問1〕～〔問5〕に答えなさい。

人々は、自分たちの住む地域の **a** 農産物や **b** 水産物などを活用して、その地域の **c** 気候や風土にあった料理をつくってきました。

例えば、東北地方では冬の寒さがとても厳しいため、体を温める郷土料理が多くみられます。その中の一つ、岩手県の「さんまのすり身汁」は、三陸海岸沖で多くとれるさんまを使ってつくられています。

また、**d** 長野県の郷土料理としては、「信州そば」が有名です。稲作が困難で、厳しい自然環境にある地域では、そばが主食の一つとして食べられてきました。

しかし、現在、交通網や輸送技術が発達したことにより、様々な食材が手に入り、食の地域性が薄れてきたといわれています。そこで、近年、**e** 地域の伝統としてこうした郷土料理を守っていこうとする動きがみられます。

〔問1〕 文中の下線a)に関し、表1は、米、野菜、果実、肉用牛、それぞれの都道府県別農業産出額の割合について、上位5道県を示したものです。表1中の①～④にあてはまる品目の組み合わせとして正しいものを、下のア～エの中から1つ選び、その記号を書きなさい。

表1

①		②		③		④	
北海道	8.9%	新潟県	8.7%	鹿児島県	16.3%	青森県	10.1%
千葉県	7.3	北海道	7.0	北海道	12.4	和歌山県	8.1
茨城県	7.2	秋田県	5.7	宮崎県	8.9	山形県	7.1
熊本県	5.0	茨城県	4.9	熊本県	6.0	愛媛県	6.7
愛知県	4.8	山形県	4.4	岩手県	3.9	山梨県	6.6
その他	66.8	その他	69.3	その他	52.5	その他	61.4
計	100.0	計	100.0	計	100.0	計	100.0

(農林水産省「平成23年生産農業所得統計」から作成)

- ア ① 果実 ② 米 ③ 肉用牛 ④ 野菜
 イ ① 肉用牛 ② 野菜 ③ 米 ④ 果実
 ウ ① 野菜 ② 米 ③ 肉用牛 ④ 果実
 エ ① 果実 ② 野菜 ③ 米 ④ 肉用牛

〔問2〕 文中の下線⑥に関し、図1は、日本の魚介類の国内生産量と輸入量の推移を表したものです。図1から読みとれる内容として適切なものを、次のア～エの中から1つ選び、その記号を書きなさい。

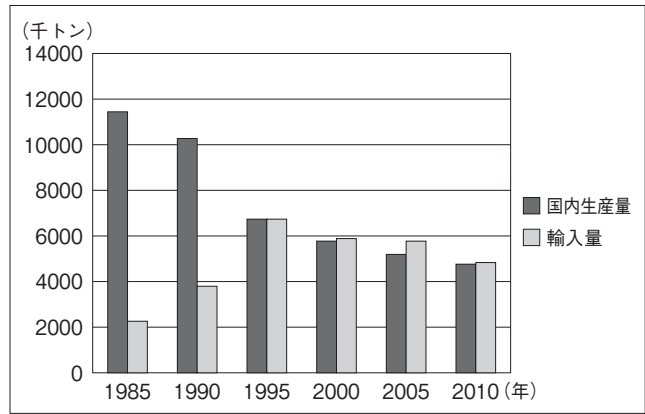
ア 1985年以降、輸入量が年々減少している中、1995年以降は国内生産量も減少していることから、魚介類の国内消費が減少傾向にあることがわかる。

イ 1985年以降、国内生産量が年々減少している中、1995年以降は輸入量も減少していることから、魚介類の国内消費が減少傾向にあることがわかる。

ウ 1985年以降、国内生産量が年々減少している中、1995年以降は輸入量も減少していることから、魚介類の国内消費が増加傾向にあることがわかる。

エ 1985年以降、国内生産量とともに輸入量も年々減少していることから、魚介類の国内消費が減少傾向にあることがわかる。

図1



(農林水産省「食料需給表」から作成)

〔問3〕 文中の下線③に関し、東北日本で起こりやすい、夏に気温が上がらず農作物の生育が悪くなる自然災害を何といいますか、書きなさい。

〔問4〕 文中の下線④に関し、次の(1)、(2)に答えなさい。

(1) 表2は、長野県と隣り合っている8県を表したものです。□にあてはまる県名を書きなさい。また、その県の位置を図2中のア～エの中から1つ選び、その記号を書きなさい。

表2

埼玉県, 新潟県, 富山県, 山梨県,
岐阜県, 静岡県, 愛知県, □県

図2



(2) 日本アルプスの東側にあり、日本列島の地形を東西にわける帯状の地域を何といいますか、書きなさい。

〔問5〕 文中の下線⑤に関し、北陸地方では農家の副業から伝統的工芸品の生産が発達してきました。このように、農家の副業が盛んに行われるようになった理由を、この地方の気候との関係に着目して簡潔に書きなさい。


3 次のA～Eのカードは、それぞれの時代の「人々の暮らし」についてまとめたものの一部です。これらを読み、〔問1〕～〔問13〕に答えなさい。

A





貴族の女性たちがえがかれています。この時代、貴族のあいだでは、①日本の風土や生活に合った文化が生まれました。また、②漢字をもとにしてかな文字がつけられました。かな文字は日本語を文章にあらわすのに適していたので、多くの文学作品が生みだされました。


B



紀伊国阿氏河荘の農民が、③地頭の乱暴な行いを荘園の領主に訴えた手紙です。この時代、④幕府が開かれ、武家政治が始まりました。農民たちは、荘園領主と地頭からの二重の支配を受けていました。地頭の中には、農民に重い労役などの負担を課すものもありました。

C  農作業のようすがえがかれています。この時代、幕府は、 を組織させ、年貢の納入や犯罪の防止などで、農民たちに、共同責任をとらせました。また、農民たちによる開墾が進むとともに幕府や藩による新田開発も行われ、田畑の面積は、 太閤検地のころと比べて約2倍に増えました。

D  地券とよばれているもので、土地の所有者や地価などが書かれています。この時代、政府は、欧米諸国に対抗するため、 経済を発展させ、国力をつけ、軍隊を強くすることを目的とした政策を進めました。それに伴い、様々な改革が行われ、国民の生活に大きな変化がみられました。

E  子ども向け雑誌です。この時代、発行部数が、1日100万部をこえる新聞が現れたり、女性雑誌なども増えたりしました。また、ラジオ放送が開始され、蓄音機も普及し、文化の大衆化が進みました。大都市では、バスガールなど新しい職業への 女性の進出も進みました。

〔問1〕 文中の にあてはまる語句を書きなさい。

〔問2〕 文中の下線a)に関し、当時、貴族の邸宅に用いられた様式を何といいますか、書きなさい。

〔問3〕 文中の下線b)に関し、**図1**は、埼玉県稲荷山古墳から出土した鉄剣とその一部を拡大したものです。そこには、大和政権（大和王権）の大王の一人と考えられている**ワカタケル**の名が漢字で刻まれています。このことについて、次の(1)、(2)に答えなさい。

(1) 図1がつくられたころの東アジアのできごととして適切に述べているものを、次のア～エの中から1つ選び、その記号を書きなさい。

- ア 朝鮮半島北部で、高句麗が力を強めた。
- イ 黄河流域で、殷という国がつけられた。
- ウ 隋にかわって唐が中国を支配した。
- エ 新羅が朝鮮半島を統一した。

(2) 図1と同じように、ワカタケルの名が刻まれているとされる鉄刀が熊本県の古墳からも出土しています。また、これらの鉄剣や鉄刀に刻まれた文字からは、古墳にほうむられた人物が、ワカタケル大王に仕えていたことが読みとれます。これらのことから、当時の大和政権（大和王権）について考えられることを、簡潔に書きなさい。

図1



〔問4〕 文中の下線c)に関し、地頭が荘園や公領に置かれたのに対し、同じ時期に、国ごとに置かれた役職を何といいますか、書きなさい。

〔問5〕 文中の下線㉔に関し、この時代、幕府を開き武家政治を始めた人物を、次のア～エの中から1つ選び、その記号を書きなさい。

- ア 平清盛 たいらのきよもり イ 源頼朝 みなもとのもりとも ウ 足利尊氏 あしかがたかうじ エ 徳川家康 とくがわいえやす

〔問6〕 Bのカードの時代の仏教に関し、適切に述べているものを、次のア～エの中から1つ選び、その記号を書きなさい。

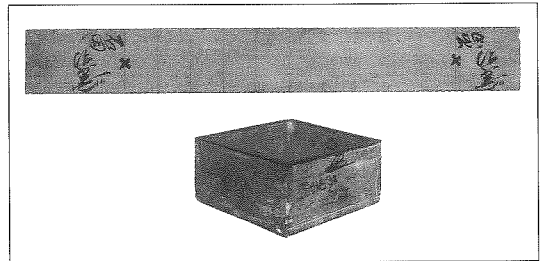
- ア 中国で仏教を学んだ最澄が、延暦寺を建てて天台宗を広めた。
 イ 日蓮が法華経こそ仏の真実の教えであり、題目を唱えれば救われると説いた。
 ウ 信仰で結びついた武士や農民が一向一揆を起し、領主を追放した国もみられた。
 エ 仏教は国を守り、政治を安定させる力をもつと考えられ、国ごとに国分寺が建てられた。

〔問7〕 文中の下線㉕に関し、幕府や藩が、新田開発を行った理由を、次の語句を用いて、簡潔に書きなさい。

年貢 財政

〔問8〕 文中の下線㉖に関し、図2は、太閤検地で用いられた道具です。太閤検地の特徴を、図2に着目して、簡潔に書きなさい。

図2



〔問9〕 文中の下線㉗の発行に伴う土地や税についての制度改革を何といいますか、書きなさい。

〔問10〕 文中の下線㉘を何といいますか、書きなさい。

〔問11〕 文中の下線㉙に関し、青鞆社をつくり、この時代、女性の政治活動への参加などを求めて、新婦人協会を結成した人物はだれですか、書きなさい。

〔問12〕 Eのカードの時代のできごとについて適切に述べているものを、次のア～エの中から1つ選び、その記号を書きなさい。

- ア 福沢諭吉が『学問のすゝめ』を著し、人間の平等と自立を説いた。
 イ 与謝野晶子が「君死にたまふことなかれ」という詩を発表した。
 ウ 原敬が内閣総理大臣となり、本格的な政党内閣が成立した。
 エ 五・一五事件が起こり、政党内閣の時代は終わりをつげた。

〔問13〕 次の文Ⅰ～Ⅲは、C、D、Eいずれかのカードの時代に起きた世界のできごとについて、それぞれ述べています。組み合わせとして正しいものを、下のア～エの中から1つ選び、その記号を書きなさい。

- Ⅰ フランスで革命が起こり、自由、平等、人民主権などを主張した人権宣言が出された。
 Ⅱ ロシアで革命が起こり、世界ではじめての社会主義国家が生まれた。
 Ⅲ 中国で義和団を中心に、外国勢力を排除しようとする運動が広がった。

- ア C—Ⅰ D—Ⅱ E—Ⅲ
 イ C—Ⅱ D—Ⅰ E—Ⅲ
 ウ C—Ⅲ D—Ⅱ E—Ⅰ
 エ C—Ⅰ D—Ⅲ E—Ⅱ

- 4 まさこさんの学級では、2013年に起こったできごとについて調べ、その結果を壁新聞にまとめました。次の壁新聞は、まさこさんが作成したものの一部です。これを読み、〔問1〕～〔問3〕に答えなさい。

祝！ 富士山、世界文化遺産に登録決定

登録名：「富士山－信仰の対象と芸術の源泉」

2013年6月22日にカンボジアで開かれた^a国際連合の専門機関であるユネスコ（国連教育科学文化機関）の世界遺産委員会で、富士山の世界文化遺産への登録が決定されました。

世界文化遺産への登録

世界遺産条約を結んだ国々が、後世に残したい貴重な遺跡や建造物を推薦し、世界遺産委員会で決定されます。

日本も、1992年に^b国会で、この条約の締結を承認しました。



日本で13番目の世界文化遺産

1993年に「法隆寺地域の仏教建造物」と「姫路城」が日本で最初に世界文化遺産に登録されて以来、国内で13番目の登録となりました。

富士山の日

静岡県は、2009年に2月23日を「富士山の日」とする条例を制定し、富士山の環境保全活動や世界文化遺産登録に向けた取り組みを進めてきました。他にも、富士山の景観を守るための条例を制定した^c地方公共団体があります。

〔問1〕 文中の下線^aに関し、次の(1)、(2)に答えなさい。

- (1) 図は、国際連合の主な機関を表しています。図中の **I** にあてはまる機関を何といいますか、書きなさい。
- (2) 国際連合は、紛争地域で停戦や選挙の監視などの活動を行っています。この活動を何といいますか、書きなさい。

〔問2〕 文中の下線^bに関し、次の(1)、(2)に答えなさい。

- (1) 国会は、日本国憲法でどのような機関であると位置づけられていますか、次の語句を用いて、簡潔に書きなさい。

国権 立法

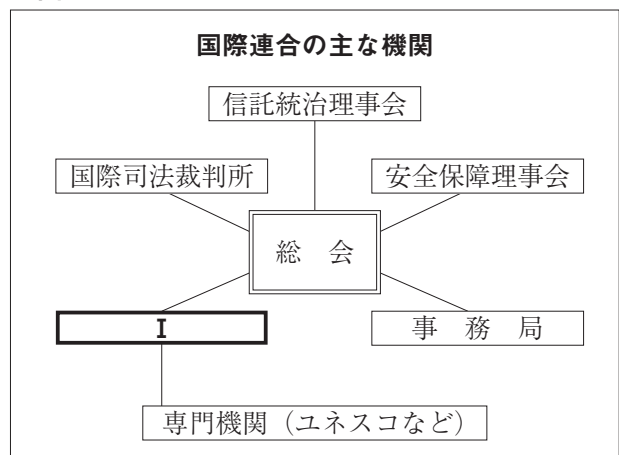
- (2) 予算の議決や条約の承認などにおいて、衆議院と参議院の議決が一致しない場合に開かれるのは何ですか、次のア～エの中から1つ選び、その記号を書きなさい。

ア 両院協議会 イ 特別会 ウ 公聴会 エ 臨時会

〔問3〕 文中の下線^cに関し、次の(1)、(2)に答えなさい。

- (1) 地方公共団体の首長について適切に述べているものを、次のア～オの中からすべて選び、その記号を書きなさい。

図



- ア 被選挙権は、市町村・都道府県ともに満25歳以上である。
- イ 条例の制定・改廃を求める直接請求権の請求先である。
- ウ 法律の範囲内で条例を制定する。
- エ 地方公共団体の予算を決定する。
- オ 地方議会に対して解散権をもつ。

(2) 次の文は、地方自治の特徴について書かれたものです。文中の **Ⅱ** にあてはまる語句を書きなさい。

文

住民が地域を自ら治めることから、「地方自治は **Ⅱ** の学校」といわれています。

5 社会科の課題学習で、「消費者の権利」について調べ、発表することになりました。次の文は、その発表原稿の一部です。これを読み、〔問1〕～〔問6〕に答えなさい。

日本では、**a**高度経済成長期において、大量生産や大量消費が進む中で、**b**消費者の生活や安全をおびやかす事件が多発し、大きな社会問題となりました。そのため、1968年に消費者保護基本法が制定され、**c**消費生活の安定や向上などの基本的対策が示されました。

しかし、商品の購入などをめぐって新たな問題が起こるようになってきました。そこで、訪問販売法やクーリングオフ制度などが設けられました。また、1994年には、欠陥商品によって被害を受けた場合の**d**企業の責任について定めた 法が制定されるなど、消費者の保護と救済が図られてきました。

さらに、経済社会の変化に伴って、消費者保護基本法を見直す必要性が生じ、2004年に制定された消費者基本法では、これまでの権利に加えて、消費者の自立を支援することが明記されました。

このように、法律や制度の整備が進められてきましたが、**e**消費者としてより良く生きるために、正しい知識を身に付けたり、必要な情報を集めたりするなど、主体的に判断し責任をもって行動することが必要であると思います。

〔問1〕 文中の にあてはまる語句を書きなさい。

〔問2〕 文中の下線**a**に関し、「高度経済成長期において、家庭用電気製品が普及したことによって、家事労働の平均時間が短縮された。」ということを説明しようと思います。そのためには、どのような資料が必要だと考えられますか、次の**ア～オ**の中から適切なものを2つ選び、その記号を書きなさい。

- ア 日常生活時間の内訳の変化
- イ 乗用車の保有台数の変化
- ウ 米の消費量の変化
- エ 電気掃除機や電気洗濯機の普及率の変化
- オ 家族構成の変化

〔問3〕 文中の下線**b**に関し、消費者の利益を守ることを目的に、独占禁止法に基づいて設置された機関を何といいますか、書きなさい。

〔問4〕 文中の下線**c**に関し、次の説明文は、環境に配慮した消費生活のあり方についてまとめたものです。説明文の () にあてはまる文を書きなさい。

説明文

現代の消費者には、ごみの発生を減らすという「リデュース」の考え方、使ったものを再使用するという「リユース」の考え方、そして、() という「リサイクル」の考え方である3Rを心がけた生活が求められている。

〔問5〕 文中の下線**d**に関し、国や地方公共団体が経営する、利潤(利益)を得ることを目的としなない企業を何といいますか、書きなさい。

〔問6〕 文中の下線**e**に関し、消費者トラブルで被害を受けたとき、地方公共団体や消費生活センターなどの行政機関に相談することができます。このような相談をすることは、被害を受けた個人が救済されるだけでなく、社会にどのような良い影響を与えますか、次の語句を用いて、簡潔に説明しなさい。

共有 防止