

平成 29 年度

和歌山県高等学校入学者選抜学力検査問題

社 会

(10時30分～11時20分)

(注 意)

- 1 「始め」の合図があるまで、問題を見てはいけません。
- 2 問題冊子と別に解答用紙が1枚あります。答えは、すべて解答用紙に記入下さい。
- 3 問題冊子と解答用紙の両方の決められた欄に、受検番号を記入下さい。
- 4 印刷が悪くて分からないときや筆記用具を落としたときなどは、黙って手を挙げ下さい。
- 5 時間内に解答が終わっても、その場に着席して下さい。
- 6 「やめ」の合図があったら、すぐに解答するのをやめ、解答用紙を裏向けにして机の上に置き下さい。

受 検 番 号

受 検 番 号

- 1 京子さんは、総合的な学習の時間で、「わかやま何でも帳」をもとに、「和歌山県にゆかりのある世界の国々や人物」について調べ、発表することになりました。次の文は、発表原稿の一部です。これを読み、〔問1〕～〔問5〕に答えなさい。

稲むらの火・生ける神

1854年11月4日、5日（現在の暦では12月下旬）に、大きな地震が発生しました。関東から故郷である現在の^{ひろがわ}広川町に戻っていた^{はまぐち くりょう}濱口梧陵は、この^a地震の後に大津波が来ることを予期して、村人を避難させました。^bギリシャで生まれた明治時代の文豪^{こいずみ やくも}ラフカディオ・ハーン（小泉八雲）は、短編集の中で、^c濱口梧陵を「A Living God（生ける神）」として紹介しています。また、11月5日は、2015年12月に開かれた国際連合の総会において、「世界津波の日」に定められました。

エルトゥールル号の遭難とトルコ航空機による日本人の救出

1890年、^cトルコへの帰国途中であった軍艦エルトゥールル号は、暴風雨で、現在の^{くしもと おおしま}串本町大島の^{かしの ざき}檜野埼付近で遭難し、水没しました。そのとき、大島の人たちが献身的な救護活動を行い、乗組員のうち69人を救助しました。そして時が過ぎ、1985年のイラン・イラク戦争のときに、^dイランの首都テヘランから脱出できなかった215人の日本人を、トルコが特別に航空機を派遣して救出してくれたのです。

東京オリンピック開催に尽力

^eアメリカで生まれた^{わ だ い じ ゅ}和田勇（フレッド・イサム・ワダ）は、4歳から9歳まで彼の両親の出身地である^{ひ た か}日高地方で過ごしました。アメリカに戻った後、マーケットの経営に成功した彼は、戦後、アメリカで開催された国際水泳大会で、日本の選手を支援しました。その功績から、アメリカの日系人でただ一人東京オリンピック準備招致委員会委員に選ばれました。彼は、世界各国を私費でまわり、1964年の東京オリンピック開催に大きく貢献しました。

〔問1〕 文中の下線^aに関し、日本は地震や火山が多く、アンデス山脈やロッキー山脈、オセアニア州の島々と同じ造山帯に属しています。この造山帯を何といいますか、書きなさい。

〔問2〕 文中の下線^bに関し、**図1**中の^Xは、ギリシャの首都アテネをとおり北緯38度の緯線を示しています。同緯線上にある日本の都市を、次の^ア～^エの中から1つ選び、その記号を書きなさい。


- ^ア 札幌市
- ^イ 新潟市
- ^ウ 鹿児島市
- ^エ 那覇市

〔問3〕 文中の下線^cに関し、トルコの標準時は、本初子午線のとおりロンドンと3時間の時差があります。

日本が3月9日午後7時のとき、トルコは何月何日何時になりますか、書きなさい。ただし、日本の標準時は、東経135度を基準とします。

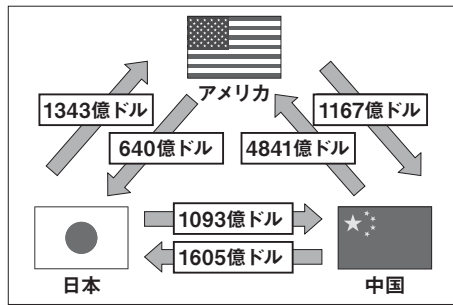
〔問4〕 文中の下線^dに関し、この国の伝統的な衣装として最も適切なものを、次の^ア～^エの中から1つ選び、その記号を書きなさい。

図1



〔問5〕 文中の下線㉑に関し、京子さんは、アメリカと世界の国々との関係に興味をもち、さらに調べ学習をすすめました。図2と表は、調べた資料の一部です。下の(1)、(2)に答えなさい。

図2 米日中の貿易関係 (2015年)



(外務省ホームページから作成)

表

	面積 (万km ²)	人口 (万人)	国内総生産 (百万ドル)	原油産出量 (万キロリットル)
ア	960	138232	10430590	24353
イ	1710	14344	1849940	60883
ウ	999	3629	1785387	20945
エ	983	32412	17348072	50551

(「世界国勢図絵 2016 / 17年版」などから作成)

- (1) 図2は、アメリカ、日本、中国の3か国の間で行われている貿易の輸出額を示したものです。この図2から読み取れるアメリカの貿易について、日本との貿易と中国との貿易を比較しながら、「貿易赤字」という語を用いて、簡潔に書きなさい。
- (2) 表は、アメリカ、カナダ、中国、ロシアについて、それぞれの面積、人口、国内総生産(GDP)、原油産出量を示したものです。アメリカにあたるものを、表中のア～エの中から1つ選び、その記号を書きなさい。

2 次の文は、良夫さんが社会科の授業で、「日本の漁業」について調べ、まとめたものの一部です。これを読み、〔問1〕～〔問3〕に答えなさい。

日本は世界有数の水産国で、近海には暖流と寒流がぶつかる好漁場があるなど、各地にa漁港が発展してきました。また、日本から遠く離れた海域で、遠洋漁業も行われていました。しかし、海に接している多くの国が、条約により、経済水域(排他的経済水域)で魚などの水産資源やb海底の鉱産資源を利用する権利をもつようになりました。それらの国々は、その経済水域内で、他国の漁業活動を規制するなどしたため、日本はc漁獲量にも影響を受けました。

〔問1〕 文中の下線aに関し、図は、水あげ量の多い代表的な漁港の位置を示しています。これを見て、次の(1)～(3)に答えなさい。

- (1) 表は、図中のくしろ漁港、八戸漁港、銚子漁港、枕崎漁港が位置する4つの道県について、それぞれの漁業生産額、製造品出荷額等、農業産出額を示したものです。表中の①～④と道県名の組み合わせとして正しいものを、下のア～エの中から1つ選び、その記号を書きなさい。

図



表

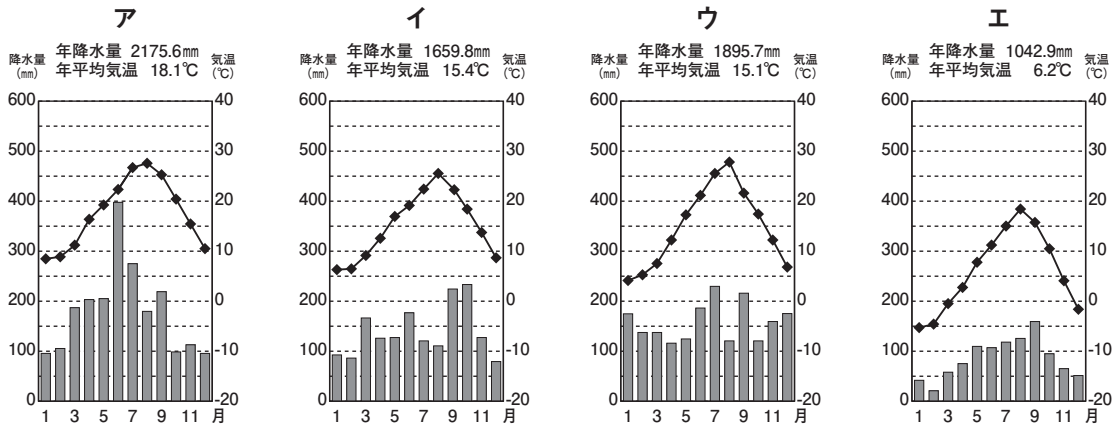
(単位 億円)

	漁業生産額	製造品出荷額等	農業産出額	
			耕種(米、野菜等)	畜産
①	2592	64564	5090	5616
②	385	15283	2019	815
③	255	18238	1533	2503
④	237	130507	3043	1094

(「データでみる県勢」2016年版から作成)

- ア ① 鹿児島県 ② 北海道 ③ 青森県 ④ 千葉県
 イ ① 北海道 ② 青森県 ③ 鹿児島県 ④ 千葉県
 ウ ① 北海道 ② 千葉県 ③ 青森県 ④ 鹿児島県
 エ ① 千葉県 ② 青森県 ③ 鹿児島県 ④ 北海道

(2) 次のア～エは、図中の釧路漁港、銚子漁港、^{さかい}境漁港、枕崎漁港の位置する都市のいずれかの気温と降水量を表したものです。境漁港の位置する都市にあたるものを1つ選び、その記号を書きなさい。

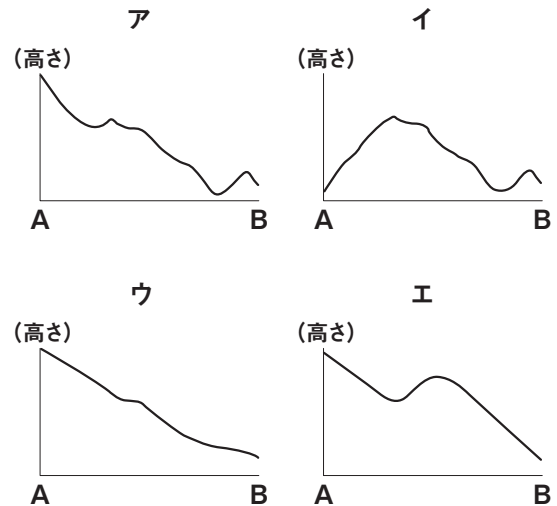


(気象庁ホームページから作成)

(3) 次の2万5千分の1の地形図は、境漁港周辺のもので、地形図中の線分ABの断面を模式的に示したものと最も適切なものを、次のア～エの中から1つ選び、その記号を書きなさい。



(国土地理院「電子地形図25000」から作成)




〔問2〕 文中の下線**㉑**に関し、次の(1)、(2)に答えなさい。

- 日本列島に沿う形で、深さおよそ200mまでの、傾斜がゆるやかで平坦な地形がみられます。また、ここには、鉱産資源が豊富にあると考えられています。この地形を何といいますか、書きなさい。
- 日本近海に大量に存在するとされる資源で、天然ガスの一種であるメタンガスが水と結合して氷状になった鉱産資源を何といいますか、書きなさい。


〔問3〕 文中の下線**㉒**を増やすための取組の1つとして、^{ちぎよ}稚魚や^{ちがい}稚貝をある程度まで育てて海や川に放流し、大きくなってから漁獲する漁業があります。この漁業を何といいますか、書きなさい。

3 次のA～Fのカードは、明子さんが夏休みの自由研究で、「私たちのふるさとに関する歴史上の人物」についてまとめたものの一部です。これを読み、〔問1〕～〔問11〕に答えなさい。


A 有間皇子は、孝徳天皇の子供です。有力な皇位継承候補であった彼は、①中大兄皇子に謀反の疑いをかけられ、現在の海南市で処刑されました。
『②万葉集』には、19歳でこの世を去った彼の悲運をしのぶ歌が収められています。




B 西行は、現在の紀の川市に居館をかまえていた佐藤氏の一族です。彼は武士として鳥羽上皇に仕えました。23歳のときに出家して全国各地をめぐり、自然を題材にした美しい和歌をよみました。③鎌倉時代にまとめられた『新古今和歌集』には、彼の歌がたくさん収められています。




C 真田幸村(信繁)は、1600年、Xの戦いの際に石田三成らの西軍に加わりました。彼は、父に従い信濃国上田城を守り、徳川秀忠の進軍をはばみました。しかし、西軍が④徳川家康の率いる東軍に敗れたため、彼ら親子は高野山に追放され、現在の九度山町で生活しました。彼は、のちに大阪の陣に参戦し、徳川方との激戦の末に敗れました。




D 徳川吉宗は、紀州徳川家に生まれました。22歳で5代紀州藩主になり、藩の改革に成功しました。江戸幕府の8代将軍に就任すると、藩主時代の経験を生かし、幕府政治の改革に取り組みました。彼が実行した改革を、⑤享保の改革といます。



E 陸奥宗光は、紀州藩士の家に生まれ、幕末には⑥坂本龍馬とともに行動しました。明治時代にはいり、⑦政府が日本の近代化をすすめる中、外務大臣としても活躍し、不平等条約の一部改正や⑧下関条約の締結など、わが国の外交に大きな功績を残しました。



F 片山哲は、現在の田辺市の出身です。⑨大正時代の末に社会民衆党が結成されると書記長に就任し、その後、衆議院議員に当選しました。戦後、⑩G H Qの占領下において、彼は日本社会党の重職を務め、1947年の総選挙で第1党に躍進し、和歌山県出身者として初めて内閣総理大臣に就任しました。



〔問1〕 文中の X にあてはまる語を書きなさい。

〔問2〕 文中の下線①が中臣鎌足らとともに行った政治改革を何といいますか、書きなさい。

〔問3〕 文中の下線②がつくられた時代の文化の説明として最も適切に述べているものを、次のア～エの中から1つ選び、その記号を書きなさい。

ア 唐風の文化を踏まえながら、日本の風土や暮らしに合わせた、わが国独自の文化である。

イ 金閣などにその特色がよくあらわれている、公家文化と武家文化が混ざり合った文化である。

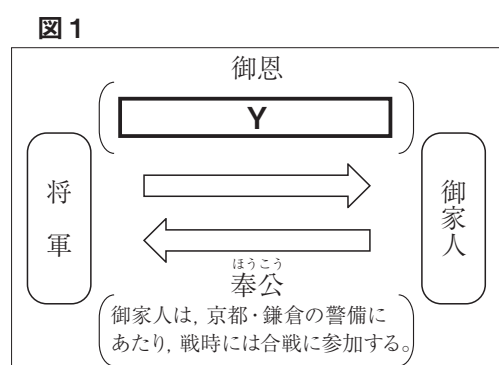
ウ 仏教が伝来して形成された、法隆寺などに代表される、わが国最初の仏教文化である。

エ 国際色豊かな正倉院の宝物などに代表される、仏教や唐の文化の影響を強く受けた文化である。

〔問4〕 文中の下線③に関し、次の(1)、(2)に答えなさい。

(1) 図1は、この時代の将軍と御家人の関係を示したものです。図1中の Y にあてはまる御恩についての説明を、次の語を用いて簡潔に書きなさい。

御家人 領地



(2) 宋からもたらされ、自分の力でさとりを得るといふ教えが武士の気風にあったため、鎌倉幕府によって保護された仏教の宗派を、次のア～エの中から1つ選び、その記号を書きなさい。

- ア 禅宗 イ 浄土宗 ウ 日蓮宗 エ 浄土真宗

〔問5〕 文中の下線㉑に関し、江戸幕府初期のできごとについて適切に述べているものを、次のア～エの中から1つ選び、その記号を書きなさい。

- ア イエズ会の宣教師フランシスコ＝ザビエルが鹿児島に来て、各地にキリスト教を伝えた。
 イ 朱印船貿易を進めるとともに、新たに来航したオランダ人やイギリス人との貿易を許可した。
 ウ フィリピンや台湾などに服属を求め、さらには明の征服をめざして大軍を朝鮮に送った。
 エ 日明貿易を開始し、正式な貿易船には明から与えられた勘合という証明書を持たせた。

〔問6〕 文中の下線㉒の内容について適切に述べているものを、次のア～オの中から2つ選び、その記号を書きなさい。

- ア 旗本や御家人の生活難を救うため、借金を帳消しにした。
 イ 民衆の意見を政治の参考にするため、江戸に目安箱を設けた。
 ウ 蝦夷地の開拓を計画し、長崎での貿易を盛んにしようとした。
 エ 裁判の基準となる公事方御定書を定めた。
 オ 江戸に出かせぎに出ている農民を、故郷の村に帰らせた。

〔問7〕 文中の下線㉓が活躍したころの世界のできごととして適切に述べているものを、次のア～エの中から1つ選び、その記号を書きなさい。

- ア 中国で辛亥革命が起こり、孫文が臨時大総統に就き、中華民国が成立した。
 イ フランスで国王や貴族中心の政治に対する不満が高まり、フランス革命が起こった。
 ウ スペインの支援のもと、コロンブスが大西洋を横断して、カリブ海の西インド諸島に到達した。
 エ アメリカで南北戦争が行われていたときに、リンカン（リンカーン）大統領が「人民の、人民による、人民のための政治」を訴えた。

〔問8〕 文中の下線㉔に関し、次の資料は、明治新政府が出した方針です。これを何といいますか、書きなさい。

資料

一 広く会議ヲ興シ、万機公論ニ決スヘシ
 一 上下心ヲ一ニシテ、盛ニ経綸ヲ行フヘシ
 一 官武一途庶民ニ至ル迄、各其志ヲ遂ケ、人心ヲシテ倦マサラシメンコトヲ要ス
 一 旧来ノ陋習ヲ破リ、天地ノ公道ニ基クヘシ
 一 智識ヲ世界ニ求メ、大ニ皇基ヲ振起スヘシ

〔問9〕 文中の下線㉕に関し、次の(1)、(2)に答えなさい。

(1) 次の説明文中の **Z** にあてはまる語を書きなさい。

説明文

この条約で日本が獲得した **Z** 半島に関して、ロシアは、ドイツ、フランスをさそい、清国へ返すよう日本にせまりました。日本は、やむなくこの要求を受け入れて清国に返還し、その還付金を得ました。

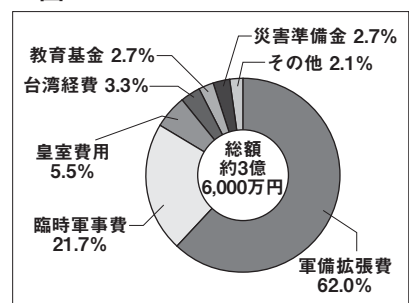
(2) 図2は、日本が清国から獲得した賠償金と還付金の使いみちを示したものです。日本がこのように使った理由を、次の語を用いて、簡潔に書きなさい。

対抗 強化

〔問10〕 文中の下線㉖に関し、民本主義を唱え、大正デモクラシーに影響を与えた人物はだれですか、書きなさい。

〔問11〕 文中の下線㉗に関し、GHQの指令により、日本政府が地主の農地を買い上げ、小作人に安く売り渡しました。この政策を何といいますか、書きなさい。

図2



(「大蔵省史」などから作成)

- 4 和美さんたちは、社会科の課題学習で、「私たちの生活と法」というテーマで調べ、発表することになりました。次の文は、それぞれの発表原稿の一部です。これを読み、〔問1〕～〔問5〕に答えなさい。

人権のあゆみ

1948年12月10日、国際連合は、自由、正義、平和の基礎である **㉑** 基本的人権を確保するため、全ての人々と国とが達成すべき共通の基準として、**X** 宣言を採択しました。1950年には、毎年12月10日を人権デーとして、世界中で記念行事を行うことが決まりました。その後、この宣言の理想を現実のものにしようと、国際人権規約や女子差別撤廃条約といった様々な条約がつくられています。

身近な司法制度

2009年5月にはじまった **㉒** 裁判員制度は、国民が裁判員として、重大な犯罪行為に関する **㉓** 刑事裁判に参加し、被告人が有罪かどうか、有罪の場合はどのような刑罰を科すか、裁判官と一緒に決めていくものです。裁判員は、20歳以上の国民の中から、くじで選ばれます。将来、私たちも裁判員として刑事裁判に参加する日が来るかもしれません。

これからの人権保障

日本国憲法では明確に規定されていない **㉔** 新しい人権を、憲法上の人権として明文化すべきであるという主張があります。憲法ができた当時と比較してみると、科学技術が著しく発展し、社会や経済の状況は大きく変化したからです。近年、人々の生き方が多様化する中、個人の生き方や生活のスタイルは自分の考えにしたがって自由に決定する自己決定権が主張されています。

〔問1〕 文中の **X** にあてはまる語を書きなさい。

〔問2〕 文中の下線㉑に関し、次の(1)、(2)に答えなさい。

(1) 政治権力を制限し、その濫用を防ぐために、憲法に基づいて政治を行うという考え方を何といいますか、書きなさい。

(2) 次のア～エの人権のあゆみにかかわる法や宣言を年代の古い順に並べるとどのようになりますか、その記号を順に書きなさい。

- ア 大日本帝国憲法 イ アメリカ独立宣言
ウ 権利の章典(権利章典) エ ワイマール憲法

〔問3〕 文中の下線㉒を導入した目的について最も適切に述べているものを、次のア～エの中から1つ選び、その記号を書きなさい。

- ア 裁判における費用を少なくするため。
イ 裁判が公正に行われているかを監視するため。
ウ 司法に対する理解と信頼を深めるため。
エ 法律の専門家に気軽に相談できるようにするため。

〔問4〕 文中の下線㉓に関し、次の(1)、(2)に答えなさい。

(1) 図は、刑事裁判における三審制のしくみを模式的に示したものです。

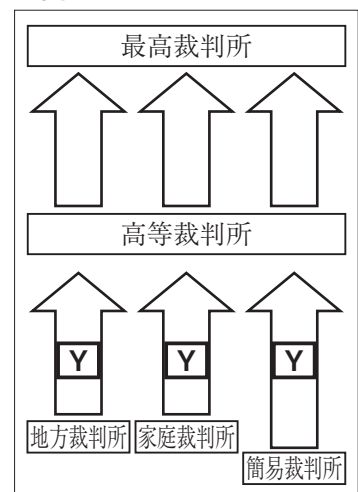
図中の **Y** にあてはまる申し立てを何といいますか、書きなさい。

(2) 刑事裁判では、国が被告人に国選弁護人をつけることがあります。どのようなときに、この国選弁護人がつけられますか、簡潔に書きなさい。

〔問5〕 文中の下線㉔は、次の日本国憲法の第13条を根拠に保障されると考えられています。**Z** にあてはまる語を書きなさい。

第13条 すべて国民は、個人として尊重される。生命、自由及び **Z** に対する国民の権利については、公共の福祉に反しない限り、立法その他の国政の上で、最大の尊重を必要とする。

図



5 次の文は、真一さんが社会科の授業で、「社会保障のしくみ」について調べ、まとめたものの一部です。これを読み、〔問1〕～〔問5〕に答えなさい。

私たちは、病気、失業などによって、生活が困難になる可能性があります。個人の力だけでは備えることに限界があるので、社会全体で助け合い、支えようとするしくみが^①社会保障制度です。だれもが安心して暮らせる社会を実現するため、日本国憲法第25条では「すべて国民は、健康で文化的な最低限度の生活を営む権利を有する。」と^②権について定められています。

^③政府は、私たちの世代でも希望がもてるように、また、働く世代と高齢者がともに納得できるように、社会保障制度の改革や^④財政の健全化に取り組んでいます。さらに、子供を産み育てやすく、^⑤高齢者が安心して暮らせるような環境の整備も進めています。これからも一層、社会保障制度が効率的に運営されるように、みんなで考えていく必要があります。

〔問1〕 文中の^②にあてはまる語を書きなさい。

〔問2〕 文中の下線^①に関し、表は、日本の社会保障制度の4つの基本的な柱についてまとめたものです。下の(1)、(2)に答えなさい。

表

種類	主な内容
社会保険	雇用保険、 ^⑥
公的扶助	生活保護（生活扶助、住宅扶助、教育扶助、医療扶助）
社会福祉	高齢者福祉、児童福祉、障害者福祉
^⑦	感染症対策、上下水道整備、廃棄物処理、公害対策

(1) 表中の^⑦にあてはまる語を書きなさい。

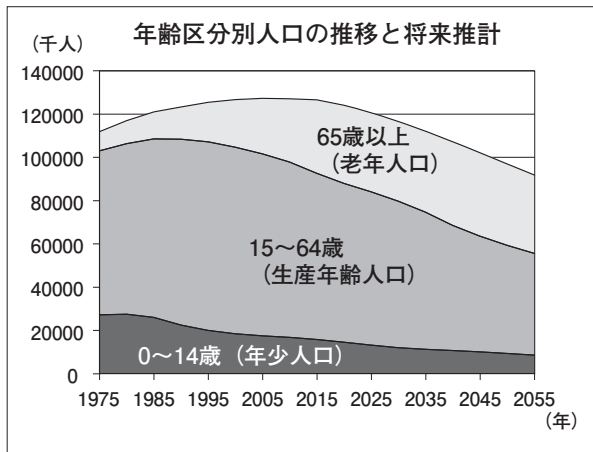
(2) 表中の^⑥にあてはまる社会保険の内容を、雇用保険以外で1つ書きなさい。

〔問3〕 文中の下線^③の役割の1つに、景気の安定化があります。特に不景気では、物価の下落と企業利益の減少が連続して起こり深刻化することがあります。この悪循環のことを何といいますか、書きなさい。

〔問4〕 文中の下線^④に関し、国が税収入だけで必要な財政支出をまかなうことができない場合、民間から資金を借り入れることがあります。この借金を何といいますか、書きなさい。

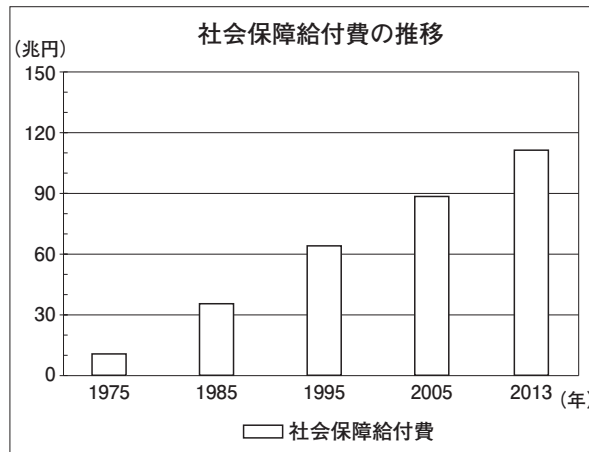
〔問5〕 文中の下線^⑤に関し、図1は、年齢区分別人口の推移と将来推計を、図2は、社会保障給付費の推移をそれぞれ示したもので、図2は今後もこの傾向が続くと考えられています。現在の制度が続くとして、図1と図2から、社会保障に必要な費用について、生産年齢人口一人あたりの負担は、今後どうなると考えられますか、理由も含めて、簡潔に書きなさい。

図1



(厚生労働省ホームページから作成)

図2



(厚生労働省ホームページから作成)